

Отложенные задания (287)

Семейным бюджетом называется

- 1) сумма доходов семьи за определенный период
- 2) сумма денег, необходимая для обеспечения жизни семьи
- 3) совокупность всех доходов и расходов семьи за определенный период
- 4) сумма основных расходов семьи за определенный период

Один из признаков рыночной экономики –

- 1) преобладание государственной собственности
- 2) регулирование цен государственным органом управления экономикой
- 3) существование государственных планов, обязательных для производителей
- 4) отсутствие планового регулирования государством количества производимой продукции

Рыночная экономика отличается от командной тем, что в ней

- 1) вопрос о том, что и как производить, производители решают самостоятельно
- 2) работникам на предприятии выплачивается заработная плата
- 3) принимаются государственные планы, обязательные для производителей
- 4) существует разделение труда между работниками, предприятиями, отраслями производства

Какая из перечисленных наук изучает отношения между людьми, связанные с организацией производства?

- 1) философия
- 2) социология
- 3) политология
- 4) экономика

Повышение уровня безработицы в традиционных отраслях и наличие свободных мест в сфере высоких технологий и услуг характеризует ситуацию на рынке

- 1) фондовом
- 2) капиталов
- 3) труда
- 4) товаров и услуг

Установите соответствие между примерами и видами налогов: к каждой позиции, данной в первом столбце, подберите соответствующую позицию из второго столбца.

Processing math: 100%

Ры

ВИДЫ НАЛОГОВ

А) подоходный

1) прямые налоги

- Б) с продаж
В) акциз
Г) на наследство
Д) на имущество
Е) на добавленную стоимость
- 2) косвенные налоги

Нередко можно услышать мнение, что с безработицей в рамках рыночной экономики государство бороться не должно: она присуща рынку. Сформулируйте собственное мнение по данному вопросу. Приведите два аргумента.

Найдите в приведенном ниже списке рычаги финансово-экономического регулирования рынка со стороны государства.

- 1) антимонопольное законодательство
- 2) кредиты, предоставляемые предпринимателям
- 3) развитие системы экономического образования в средней школе
- 4) вручение государственных наград за производственные успехи
- 5) налоговая политика

Экономика как область знаний непосредственно изучает

- 1) способы регулирования социальных конфликтов
- 2) способы рационального использования ограниченных ресурсов
- 3) социальные последствия научно-технической революции
- 4) способы оптимального управления обществом

Верны ли следующие суждения об экономике как науке?

- А. Экономика относится к общественным наукам.
Б. Методы исследования экономики предполагают её тесную связь с математикой.
- 1) верно только А
 - 2) верно только Б
 - 3) верны оба суждения
 - 4) оба суждения неверны

Фондовая биржа в условиях финансового кризиса объявляет о снижении курса акций крупных компаний. Данный факт иллюстрирует ситуацию на рынке

- 1) товаров
- 2) материалов
- 3) капиталов
- 4) инноваций

Прочитайте приведенный ниже текст, в котором пропущен ряд слов.

Выберите из предлагаемого списка слова, которые необходимо вставить на место пропусков.

«В современной экономике действуют три главных _____ (1): производители экономического продукта, его потребители и _____ (2). Между ними происходит весьма интенсивный _____ (3) товарами, услугами, денежными средствами, информацией. Государство обеспечивает определённую упорядоченность экономических процессов, их правовое _____ (4), защиту прав и интересов отдельных участников экономических отношений. В то же время государство выступает как весьма крупный _____ (5) товаров, услуг, информации. В то же время государство является _____ (6), оно приобретает у производителей военную технику для армии, продукты питания для государственных запасов, компьютерную технику для государственных органов и учреждений».

Слова в списке даны в именительном падеже. Каждое слово (словосочетание) может быть использовано только один раз.

Выбирайте последовательно одно слово за другим, мысленно заполняя каждый пропуск. Обратите внимание на то, что в списке слов больше, чем вам потребуется для заполнения пропусков.

- А) производитель
- Б) обмен
- В) объект
- Г) государство
- Д) предложение
- Е) субъект
- Ж) регулирование
- З) спрос
- И) потребитель

Какой смысл обществоведы вкладывают в понятие «производитель»? Привлекая знания обществоведческого курса, составьте два предложения, содержащих информацию о производителе.

Найдите в приведенном ниже списке рычаги правового регулирования рынка со стороны государства. Запишите цифры, под которыми они указаны.

- 1) принятие законов в поддержку «малого бизнеса»
- 2) принятие антимонопольного законодательства
- 3) выдача субсидий малым предприятиям
- 4) установление нормы обязательного банковского резерва
- 5) подготовка экономистов в государственных вузах

Назовите любые три экономические функции государства и проиллюстрируйте примером каждую из них.

«Систему свободного предпринимательства можно сравнить с гигантским компьютером, способным решать свои собственные проблемы автоматически. Но каждый, кто имел дело с большими компьютерами, знает, что иногда они дают сбой и не могут действовать без присмотра» (В. Леонтьев). Назовите тип экономической системы, особенности

функционирования которой иллюстрирует ученый-экономист. Перечислите две экономические проблемы, которые эта система способна решать самостоятельно, и две экономические проблемы, которые требуют вмешательства государства.

Ниже приведен ряд терминов. Все они, за исключением одного, относятся к понятию «макροэкономика».

Валовый национальный продукт; мировой рынок; безработица; издержки; курс валют.

Найдите и укажите термин, «выпадающий» из общего ряда и относящийся к другому понятию.

Установите соответствие между проявлениями и видами экономической деятельности: к каждой позиции, данной в первом столбце, подберите соответствующую позицию из второго столбца.

ПРОЯВЛЕНИЯ

- А) начисление банковского процента по вкладам
- Б) покупка акций
- В) получение прибыли
- Г) продажа именных облигаций

ВИДЫ ЭКОНОМИЧЕСКОЙ ДЕЯТЕЛЬНОСТИ

- 1) распределение
- 2) обмен

Верны ли следующие суждения о государственном бюджете?

- А. Государственный бюджет – это центральный финансовый план государства.
 - Б. Основным источником доходов государства являются налоги с физических и юридических лиц.
- 1) верно только А
 - 2) верно только Б
 - 3) верны оба суждения
 - 4) оба суждения неверны

Конкуренция производителей оказывает непосредственное влияние на

- 1) повышение покупательной способности
- 2) появление количества товаров лучшего качества
- 3) стабильность индивидуальных доходов
- 4) увеличение потребительского бюджета

Какой смысл обществоведы вкладывают в понятие «приватизация»? Привлекая знания обществоведческого курса, составьте два предложения, содержащих информацию о приватизации.

Раскройте смысл высказывания в форме мини-сочинения, обозначив при необходимости разные аспекты поставленной автором проблемы (затронутой темы). При изложении своих мыслей по поводу поднятой проблемы (обозначенной темы), при аргументации своей точки зрения используйте **знания**, полученные при изучении курса обществознания, соответствующие **понятия**, а также **факты** общественной жизни и собственный жизненный

опыт. (В качестве фактической аргументации приведите не менее двух примеров из различных источников.)

Экономика	«Нажить много денег – храбрость; сохранить их – мудрость, а умело расходовать – искусство» (Б. Авербах).
-----------	--

Раскройте смысл высказывания в форме мини-сочинения, обозначив при необходимости разные аспекты поставленной автором проблемы (затронутой темы). При изложении своих мыслей по поводу поднятой проблемы (обозначенной темы), при аргументации своей точки зрения используйте **знания**, полученные при изучении курса обществознания, соответствующие **понятия**, а также **факты** общественной жизни и собственный жизненный опыт. (В качестве фактической аргументации приведите не менее двух примеров из различных источников.)

Экономика	«Главная польза капитала не в том, чтобы сделать больше денег, но в том, чтобы делать деньги ради улучшения жизни» (Г. Форд).
-----------	---

Раскройте смысл высказывания в форме мини-сочинения, обозначив при необходимости разные аспекты поставленной автором проблемы (затронутой темы). При изложении своих мыслей по поводу поднятой проблемы (обозначенной темы), при аргументации своей точки зрения используйте **знания**, полученные при изучении курса обществознания, соответствующие **понятия**, а также **факты** общественной жизни и собственный жизненный опыт. (В качестве фактической аргументации приведите не менее двух примеров из различных источников.)

Экономика	«Если мы планируем слишком много, т. е. отдаем слишком большую власть государству, то свобода будет потеряна, и это поставит крест и на самом планировании» (Карл Раймунд Поппер).
-----------	--

Здания заводских цехов, производственные помещения относятся к одному из основных факторов производства –

- 1) капиталу
- 2) земле
- 3) предпринимательству
- 4) труду

Знания, умения, квалификация работников относятся к одному из основных факторов производства –

- 1) фондам
- 2) ренте
- 3) капиталу
- 4) труду

Организация производства, разработка управленческих решений, обеспечение выхода на новые рынки сбыта продукции – примеры действия одного из основных факторов производства –

- 1) капитала
- 2) предпринимательства
- 3) фондов
- 4) акционеров

В стране Н. происходит резкий рост цен на потребительские товары. Деньги обесцениваются. Падают реальные доходы населения. Какое экономическое понятие используется для характеристики данного процесса?

- 1) национализация
- 2) инфляция
- 3) профицит бюджета
- 4) приватизация

Верны ли следующие суждения о расчете прибыли?

- А.** Прибыль рассчитывается путем деления дохода на расход.
Б. Прибыль рассчитывается путем вычитания всех затрат из дохода.

- 1) верно только А
- 2) верно только Б
- 3) верны оба суждения
- 4) оба суждения неверны

Государство в рыночной экономике регулирует

- 1) объем денежной массы в обращении
- 2) объем выпуска продукции
- 3) социальные потребности
- 4) доходы предприятий

Прочитайте приведенный ниже текст, в котором пропущен ряд слов. Выберите из предлагаемого списка слова, которые необходимо вставить на место пропусков.

«Важное значение в экономических процессах играет так называемый закон спроса. Действие этого закона полнее всего проявляется в рыночной экономике свободной _____ (1). _____ (2) определяется экономистами как общее количество товара, которое _____ (3) в каждый конкретный момент времени желают, готовы и имеют денежную возможность приобрести по определённым ценам. Этот закон означает, что при равных прочих условиях объем спроса уменьшается по мере увеличения _____ (4). Надо, однако, отметить, что изменение цены и изменение спроса на _____ (5) не находятся в прямой пропорциональной зависимости. В рыночной экономике существует ещё много факторов, влияющих на _____ (6) цены и спроса».

Слова в списке даны в именительном падеже. Каждое слово (словосочетание) может быть использовано только один раз.

Выбирайте последовательно одно слово за другим, мысленно заполняя каждый пропуск. Обратите внимание на то, что в списке слов больше, чем вам потребуется для заполнения пропусков.

В данной ниже таблице указаны номера пропусков. Запишите под каждым номером букву, соответствующую выбранному вами слову.

- А) цена
- Б) потребитель
- В) производитель
- Г) спрос
- Д) производство
- Е) конкуренция
- Ж) товар

- 3) стоимость
- И) соотношение

Верны ли следующие суждения о рыночной экономике?

- А. Одним из основных элементов рыночного механизма регулирования экономики является конкуренция.
- Б. Рыночная система использует метод централизованного планирования экономики.
 - 1) верно только А
 - 2) верно только Б
 - 3) верны оба суждения
 - 4) оба суждения неверны

К отрицательным последствиям рыночного регулирования экономики относится

- 1) свободное ценообразование
- 2) отказ от уравнительного распределения товаров и услуг
- 3) доминирование потребления над производством
- 4) наличие незанятых в общественном производстве людей, безработица

Верны ли следующие суждения о налоговой политике государства?

- А. В систему косвенных налогов государства включаются акцизы.
- Б. Прямые налоги непосредственно взимаются в казну с доходов и имущества граждан и организаций.
 - 1) верно только А
 - 2) верно только Б
 - 3) верны оба суждения
 - 4) оба суждения неверны

Верны ли следующие суждения о традиционной экономике?

- А. Традиционная экономика характеризуется развитыми товарно-денежными отношениями.
- Б. Традиционная экономика характеризуется обязательным обменом продуктами труда между производителями.
 - 1) верно только А
 - 2) верно только Б
 - 3) верны оба суждения
 - 4) оба суждения неверны

Что является условием осуществления материального производства?

- 1) развитые товарно-денежные отношения
- 2) факторы производства
- 3) международная торговля
- 4) высокая потребительская активность

Чем, в первую очередь, различаются рыночная, командная, смешанная экономические системы?

- 1) уровнем развития факторов производства
- 2) способами регулирования экономики
- 3) качеством производимой продукции
- 4) уровнем благосостояния общества

Какую функцию в экономике выполняет рынок?

- 1) регулирует денежное обращение
- 2) координирует деятельность потребителей и производителей
- 3) обеспечивает высокие прибыли товаропроизводителей
- 4) обеспечивает гармонию общественных и личных интересов

Что относится к доходам государственного бюджета?

- 1) финансирование армии
- 2) налоги с граждан и фирм
- 3) ссуды государственным предприятиям
- 4) проценты по внешнему долгу, подлежащие выплате

Государство в условиях рыночной экономики

- 1) дает субсидии предпринимателям, поощряя производство в тех или иных отраслях
- 2) устанавливает цены на товары и услуги
- 3) влияет на соотношение спроса и предложения
- 4) осуществляет директивное планирование производства

Внедрение достижений науки и техники в производство, как правило, способствует

- 1) увеличению налоговых ставок
- 2) гармонизации личных и общественных интересов
- 3) снижению затрат производства
- 4) повышению минимального размера оплаты труда

Желание и возможность потребителя купить конкретный товар в конкретное время и в конкретном месте называется

- 1) предложением
- 2) потребительским расходом
- 3) спросом
- 4) стоимостью

С целью повышения качества пищевых продуктов госинспекция страны Н. предложила ввести лицензирование выпускаемой продукции. Какая экономическая функция государства может быть проиллюстрирована с помощью приведенной ситуации?

- 1) поддержка стабильности рыночной системы

- 2) стимулирование экономического роста
- 3) борьба с монополизмом
- 4) обеспечение правовой базы рыночной экономики

Прочитайте приведённый ниже текст, каждое положение которого пронумеровано.

(1) После 6 часов переговоров представители транснациональных компаний «А-газ» и «Б-газ» подписали контракт на транзит и поставку природного газа в страну Б. в 2006 году. (2) Результат переговоров трудно назвать удачным. (3) Кампании «А-газ» не удалось увеличить свою долю в совместном предприятии с 50% до 75%. (4) Правительство страны Б. согласилось уступить из своей доли только 7% акций.

Определите, какие положения текста носят

- А) фактический характер
- Б) характер оценочных суждений

Запишите под номером положения букву, обозначающую его характер. Получившуюся последовательность букв перенесите в бланк ответов.

Рыночная экономика отличается от командной тем, что в ней

- 1) работникам на предприятиях выплачивается заработная плата
- 2) существует разделение труда между отраслями, предприятиями, работниками
- 3) цены на товары определяются соотношением спроса и предложения
- 4) спрос регулируется карточками, талонами, списками льготников

Циклическая безработица максимальна

- 1) на пике экономической активности
- 2) в нижней точке спада экономической активности
- 3) в период роста экономической активности
- 4) в период стабильного экономического развития

Что относится к типичным чертам рационального поведения потребителя?

- 1) снижение расходов на дорогостоящие товары при повышении дохода
- 2) при любом росте доходов отсутствие предела расхода денежных средств на питание
- 3) возрастание внимания к качеству товара при увеличении дохода
- 4) при стабильно высоких доходах отказ от покупки дорогостоящих товаров

Верны ли следующие суждения о типе рыночной структуры, именуемой монополией?

- А. Для монополии характерным признаком является наличие одного продавца.
 - Б. Для монополии характерным признаком является формирование цены на товар исключительно продавцом.
- 1) верно только А
 - 2) верно только Б
 - 3) верны оба суждения
 - 4) оба суждения неверны

Прочитайте приведённый ниже текст, в котором пропущен ряд слов.

Выберите из предлагаемого списка слова, которые необходимо вставить на место пропусков.

«Рынок труда похож на рынки других _____(1) и услуг. Его особенностью является то, что _____(2) сам определяет, сколько времени он хотел бы работать, а сколько – отдыхать.

На конкурентных рынках рабочей силы цена _____(3), то есть _____(4) работника устанавливается как конкурентное равновесие предложения и _____(5) по различным категориям работников, по видам работ, по наличию и отсутствию профсоюзов и т.д. Существует множество рынков труда, на которых предлагается труд работников разных _____(6) в разных местностях».

Слова в списке даны в именительном падеже. Каждое слово (словосочетание) может быть использовано только один раз.

Выбирайте последовательно одно слово за другим, мысленно заполняя каждый пропуск. Обратите внимание на то, что в списке слов больше, чем вам потребуется для заполнения пропусков.

- А) зарплата
- Б) отрасли
- В) специальности
- Г) труд
- Д) спрос
- Е) взаимодействие
- Ж) безработица
- З) товары
- И) работник

В данной ниже таблице указаны номера пропусков. Запишите под каждым номером букву, соответствующую выбранному вами слову. Получившуюся последовательность букв перенесите в бланк ответов.

В рыночной экономике

- 1) вопрос о том, что производить, решается органами государственного управления
- 2) цена на товары определяется соотношением спроса и предложения
- 3) государственный план определяет, сколько производить определенной продукции
- 4) спрос регулируется размером предложения

Конкуренция важна, потому что она

- 1) способствует росту цен
- 2) способствует снижению качества товаров и услуг
- 3) способствует увеличению разнообразия предлагаемых товаров и услуг
- 4) заставляет производителей повышать затраты на производство товаров и услуг

К типичным чертам потребительского поведения относят

- 1) трату большей части дохода бедных семей на еду, одежду, жильё
- 2) повышение роста расходов на дорогостоящие предметы в большей пропорции, чем доход
- 3) уменьшение внимания к качеству товаров при увеличении дохода
- 4) увеличение расходов на дорогостоящие товары при снижении доходов

Верны ли суждения о том, что такое спрос в экономике?

- А. Спрос в экономике – это количество товара, которое покупатели готовы купить по данной цене в течение определенного периода.
- Б. Спрос в экономике – это общественная потребность в товаре, подкрепленная покупательной способностью.
- 1) верно только А
 - 2) верно только Б
 - 3) верны оба суждения
 - 4) оба суждения неверны

Обеспечивая юридическую защиту прав собственности, государство выполняет экономическую функцию

- 1) регулирования налогообложения
- 2) регулирования денежного обращения
- 3) производства общественных благ
- 4) создания условий экономической свободы

Фактором, повышающим рыночный спрос на товар или услугу, может быть

- 1) увеличение субсидии для предприятия
- 2) удорожание стоимости комплектующих изделий для производства данного товара (услуги)
- 3) повышение роста доходов населения и фирм
- 4) повышение затрат на оплату аренды производственного помещения

В стране М. экономика представляет собой многоотраслевой комплекс. Основу его составляет обрабатывающая промышленность. Какая дополнительная информация позволит сделать вывод о том, что экономика страны носит рыночный характер?

- 1) работникам предприятий выплачивается заработная плата
- 2) предприятия выплачивают налоги в государственный бюджет
- 3) производители свободны в принятии решения, что и как производить
- 4) отношения работодателей и работников регулируются трудовым законодательством

Верны ли следующие суждения о сущности равновесного состояния рынка какого-либо товара?

- А. Цены на рынке товара целиком и полностью устраивают покупателей.
- Б. Количество товара, которое продавцы готовы продать по конкретной цене, совпадает с количеством товара, которое покупатели готовы купить по этой цене.
- 1) верно только А
 - 2) верно только Б
 - 3) верны оба суждения
 - 4) оба суждения неверны

Ниже приведён ряд терминов. Все они, за исключением одного, представляют собой деньги. *Квитанция, бумажная банкнота, казначейский билет, монета, денежный знак.*

Найдите и укажите термин, «выпадающий» из общего ряда.

Какой смысл экономисты вкладывают в понятие «экономический рост»? Привлекая знания обществоведческого курса, составьте два предложения, содержащие информацию об экономическом росте.

Раскройте смысл высказывания в форме мини-сочинения, обозначив при необходимости разные аспекты поставленной автором проблемы (затронутой темы). При изложении своих мыслей по поводу поднятой проблемы (обозначенной темы), при аргументации своей точки зрения используйте **знания**, полученные при изучении курса обществознания, соответствующие **понятия**, а также **факты** общественной жизни и собственный жизненный опыт. (В качестве фактической аргументации приведите не менее двух примеров из различных источников.)

Экономика	«Деньги – это ничтожные куски бумаги или металла, но они дают их владельцу законное право на огромное количество хлеба или пива, бриллиантов или автомобилей, да и мало ли на что еще» (Г. Шоу).
-----------	--

Фактором, обуславливающим резкий всплеск спроса на товар или услугу, может быть

- 1) изменение моды
- 2) стоимость оборудования
- 3) уровень налога на прибыль предприятия
- 4) увеличение издержек производства

В стране П. государственные расходы оказались выше, чем полученные доходы. Какое экономическое понятие используется для характеристики данного процесса?

- 1) национализация предприятий
- 2) приватизация
- 3) дефицит бюджета
- 4) инфляция

При увеличении объёмов выпуска продукции

- 1) уменьшаются совокупные расходы
- 2) увеличиваются постоянные расходы
- 3) уменьшаются совокупные переменные расходы
- 4) уменьшается стоимость единицы продукции

Верны ли следующие суждения об уровне жизни?

- А. Уровень жизни в стране возрастет, если прирост реального валового национального продукта будет выше, чем прирост населения.
- Б. Уровень жизни в стране непременно возрастет, если распределение осуществляется централизованно.
- 1) верно только А
 - 2) верно только Б
 - 3) верны оба суждения
 - 4) оба суждения неверны

Какой из примеров иллюстрирует деятельность государства в **экономической** сфере?

Глава государства принял верительные грамоты новых послов.

- 1)
- 2) Проводимая в стране реформа образования расширила возможности педагогов по выбору учебных пособий и программ.
- 3) Парламент страны принял новый закон о противодействии экстремистской деятельности.
- 4) Правительство повысило ввозные пошлины на иностранные автомобили, защищая отечественного производителя.

Установите соответствие между необходимыми условиями функционирования и типами экономической системы: к каждой позиции первого столбца подберите соответствующую позицию из второго столбца.

УСЛОВИЯ ФУНКЦИОНИРОВАНИЯ

ТИПЫ ЭКОНОМИЧЕСКОЙ СИСТЕМЫ

- | | |
|---|--|
| <p>А) преобладание (господство) государственной собственности</p> <p>Б) свободное ценообразование</p> <p>В) контроль государства за производством и распределением</p> <p>Г) экономическая самостоятельность производителей</p> <p>Д) конкуренция производителей</p> <p>Е) централизованное планирование производства</p> | <p>1) командно-административная</p> <p>2) рыночная</p> |
|---|--|

Запишите в таблицу выбранные цифры, а затем получившуюся последовательность цифр перенесите в бланк ответов (без пробелов и других символов).

Раскройте смысл высказывания в форме мини-сочинения, обозначив при необходимости разные аспекты поставленной автором проблемы (затронутой темы). При изложении своих мыслей по поводу поднятой проблемы (обозначенной темы), при аргументации своей точки зрения используйте **знания**, полученные при изучении курса обществознания, соответствующие **понятия**, а также **факты** общественной жизни и собственный жизненный опыт. (В качестве фактической аргументации приведите не менее двух примеров из различных источников.)

Экономика	«Золотой век был тогда, когда золото не властвовало» (К.Ф. Лезе-Марнезия).
-----------	--

Проиллюстрируйте тремя примерами теоретическое положение о разнообразии способов получения человеком доходов от собственности. В каждом случае сначала назовите способ получения дохода, а затем – пример.

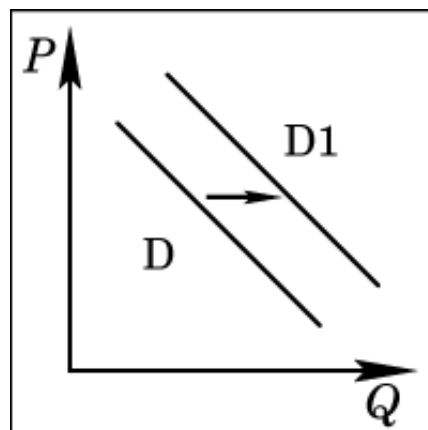
Внедрение научно-технических разработок в производство способствует

- 1) снижению спроса на квалифицированную рабочую силу
- 2) повышению производительности труда
- 3) снижению налогов с производителей
- 4) росту дефицита бюджета

В стране С. начинают действовать 10%-ая пошлина на экспорт пшеницы и 30%-ая на экспорт ячменя. Прежде пошлин на экспорт в этой стране не существовало. Их введение направлено на

- 1) стимулирование расширения производства зерновых
- 2) переориентацию производителей с производства пшеницы на производство ячменя
- 3) увеличение закупок зерна за границей
- 4) сокращение вывоза зерна из страны

На рисунке отражена ситуация на рынке товаров для активного отдыха: линия спроса **D** переместилась в новое положение **D1** (**P** – цена товара, **Q** – количество товара). Это перемещение может быть связано, прежде всего, с (со)



- 1) наступлением сезона отпусков
- 2) повышением цен на товары для отдыха
- 3) снижением доходов потребителей
- 4) уменьшением числа туристических фирм

Верны ли следующие суждения о государственном бюджете?

- А. Формирование государственного бюджета зависит от размера налоговой базы в стране.
 Б. Падение доходов от экспорта приводит к снижению доходов государственного бюджета.

- 1) верно только А
- 2) верно только Б
- 3) верны оба суждения
- 4) оба суждения неверны

Прочитайте приведённый ниже текст, каждое положение которого пронумеровано.

(1)Открытие своего дела начинается, как правило, с бизнес-плана. (2)К сожалению, многие начинающие предприниматели не могут правильно составить этот документ. (3)В существующем законодательстве пока не закреплена обязательность подготовки бизнес-плана при открытии фирмы. (4)Трудно не согласиться с мнением отдельных экономистов, считающих, что этот пробел в законодательстве следует устранить.

Определите, какие положения текста носят

- А)** фактический характер
Б) характер оценочных суждений

Запишите под номером положения букву, обозначающую его характер. Получившуюся последовательность букв перенесите в бланк ответов.

На приведенном ниже графике представлены данные об отношении средней и минимальной зарплаты в стране Z к прожиточному минимуму в 2002–2008 гг. Сделайте выводы о соотношении а) минимальной зарплаты с прожиточным минимумом; б) средней зарплаты с прожиточным минимумом в 2002–2008 гг. Объясните, чем опасна сложившаяся в стране Z социально-экономическая ситуация.



Для экстенсивного экономического роста характерно(-ен)

- 1) увеличение затрат сырья, энергии, рабочей силы
- 2) совершенствование системы управления производством
- 3) повышение образовательного и профессионального уровня работников
- 4) технологический прогресс

Современный рынок характеризует

- 1) сочетание рыночного и государственного регулирования
- 2) полное устранение экономического планирования
- 3) стабильность цен на товары массового спроса
- 4) централизованное распределение ресурсов

Что из перечисленного отражают статьи государственного бюджета?

- 1) расходы на государственное управление
- 2) доходы граждан от предпринимательской деятельности
- 3) уровень безработицы
- 4) среднемесячную заработную плату

Верны ли следующие суждения об экономической науке?

А. Экономическая наука постоянно расширяет знания о сложных хозяйственных процессах в постоянно меняющемся мире.

Б. Знание экономических законов позволяет сделать правильный выбор при определении направлений государственной политики.

- 1) верно только А
- 2) верно только Б
- 3) верны оба суждения
- 4) оба суждения неверны

Найдите в приведенном списке примеры, относящиеся к земле как фактору производства, и запишите цифры, под которыми они указаны.

- 1) денежные средства
- 2) участок пашни

- 3) залежи нефти
- 4) станки и оборудование
- 5) лесной массив
- 6) здания, сооружения

Назовите и проиллюстрируйте конкретными примерами любые три фактора, определяющие существенные различия в уровнях заработной платы работников.

Что относится к основным вопросам экономики?

- 1) Кто и как регулирует цены?
- 2) Что и как производить?
- 3) Где разместить новые предприятия?
- 4) Как координировать деятельность производителя?

Рост спроса на цветы в канун Международного женского дня приводит к повышению цен на них. Это отражает ситуацию на рынке

- 1) товаров и услуг
- 2) капиталов
- 3) труда
- 4) инноваций

Ценную бумагу, дающую ее владельцу право требовать от организации, выпустившей бумагу, в установленные сроки выплату ее номинальной стоимости, называют

- 1) акцией
- 2) облигацией
- 3) банкнотой
- 4) сертификатом

Верны ли следующие суждения о рыночной экономике?

А. Право частной собственности составляет основу рыночной экономики.

Б. В рыночной экономике ограниченные ресурсы распределяются в условиях конкуренции.

- 1) верно только А
- 2) верно только Б
- 3) верны оба суждения
- 4) оба суждения неверны

Доход, получаемый собственником от денежных сбережений на личном счете, – это

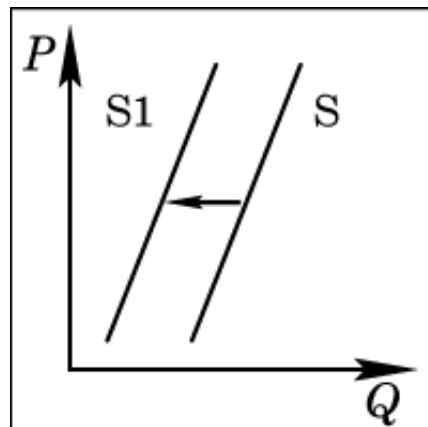
- 1) банковский процент
- 2) прибыль
- 3) бонус
- 4) дивиденды

Дефицит государственного бюджета отражает

- 1) структуру рабочей силы
- 2) научно-технический потенциал страны
- 3) состояние национальной экономики
- 4) степень монополизации экономики

На рисунке отражена ситуация на рынке зерна: линия предложения **S** переместилась в новое положение **S1** (**P** – цена товара, **Q** – количество товара).

Это перемещение может быть связано, прежде всего, с (со)



- 1) предоставлением производителям зерна налоговых льгот
- 2) снижением цен на топливо и удобрения
- 3) ростом числа хлебопекарных и кондитерских предприятий
- 4) ожиданиями низкого урожая зерна

Верны ли следующие суждения о центральном банке?

А. Центральный банк возглавляет коммерческие банки и руководит их деятельностью.

Б. Центральный банк контролирует объем денежной массы и производит эмиссию денег.

- 1) верно только А
- 2) верно только Б
- 3) верны оба суждения
- 4) оба суждения неверны

Запишите слово, пропущенное в таблице.

Экономический рост

Экстенсивный рост	Увеличение внутреннего валового продукта за счет расширения масштабов производства
...	Увеличение ВВП за счет эффективности производства

Прочитайте приведенный ниже текст, в котором пропущен ряд слов.

Выберите из предлагаемого списка слова, которые необходимо вставить на место пропусков.

«Важное значение в экономических процессах играет так называемый закон спроса. Действие этого закона полнее всего проявляется в рыночной экономике свободной _____ (1). _____ (2) определяется экономистами как общее количество товара, которое _____ (3) в каждый конкретный момент времени желают, готовы и имеют денежную возможность приобрести по определённым ценам. Этот закон означает, что при равных прочих условиях _____ (4) спроса уменьшается по мере увеличения _____ (5). Надо, однако, отметить, что изменение цены и изменение спроса на товар не находятся в прямой пропорциональной зависимости. В рыночной экономике существует ещё

много факторов, влияющих на _____(6) цены и спроса».

Слова в списке даны в именительном падеже. Каждое слово (словосочетание) может быть использовано только один раз.

Выбирайте последовательно одно слово за другим, мысленно заполняя каждый пропуск. Обратите внимание на то, что в списке слов больше, чем вам потребуется для заполнения пропусков.

Список терминов:

- А) цена
- Б) потребитель
- В) производитель
- Г) спрос
- Д) производство
- Е) конкуренция
- Ж) объём
- З) стоимость
- И) соотношение

Вам поручено подготовить развернутый ответ по теме «Экономические системы». Составьте план, в соответствии с которым вы будете освещать эту тему. План должен содержать не менее трех пунктов, из которых два или более детализированы в подпунктах.

Проводя комплекс антиинфляционных мер, государство выполняет экономическую функцию

- 1) защиты прав собственности
- 2) регулирования денежного обращения
- 3) обеспечения занятости населения
- 4) регулирования налогообложения

Что ограничивает спрос потребителя в рыночной экономике?

- 1) возможность выбора
- 2) рост предложения
- 3) снижение цен на товары
- 4) платежеспособность

На рисунке отражена ситуация на рынке компьютерной техники: линия спроса **D** переместилась в новое положение **D1** (**P** – цена товара, **Q** – объем спроса товара).

Это перемещение может быть связано, прежде всего, с (со)

- 1) избытком компьютерной техники на рынке
- 2) ростом доходов потребителей
- 3) резким снижением цен на компьютеры
- 4) выпуском новых компьютерных программ

Верны ли следующие суждения о банковской системе?

- А. Центральный банк кредитует коммерческие банки.
- Б. Коммерческие банки работают со сбережениями граждан и капиталом фирм.

- 1) верно только А
- 2) верно только Б
- 3) верны оба суждения
- 4) оба суждения неверны

Установите соответствие между проявлениями и видами экономической деятельности: к каждой позиции, данной в первом столбце, подберите соответствующую позицию из второго столбца.

ПРОЯВЛЕНИЯ

ВИДЫ ЭКОНОМИЧЕСКОЙ ДЕЯТЕЛЬНОСТИ

- | | |
|---|-------------------------|
| А) начисление дивидендов по акциям | 1) потребление |
| Б) отдых на зарубежном курорте | 2) распределение |
| В) отправка почтового сообщения | |
| Г) получение заработной платы | |

Запишите в таблицу выбранные цифры, а затем получившуюся последовательность цифр перенесите в бланк ответов (без пробелов и каких-либо символов).

Какой смысл обществоведы вкладывают в понятие «торговля»? Привлекая знания обществоведческого курса, составьте два предложения, содержащие информацию о торговле.

В государстве Z экономика основывается на многообразии форм собственности и экономической свободе производителей. Для какого типа экономической системы это характерно?

- 1) рыночной
- 2) традиционной
- 3) распределительной
- 4) командной

К числу факторов производства относится

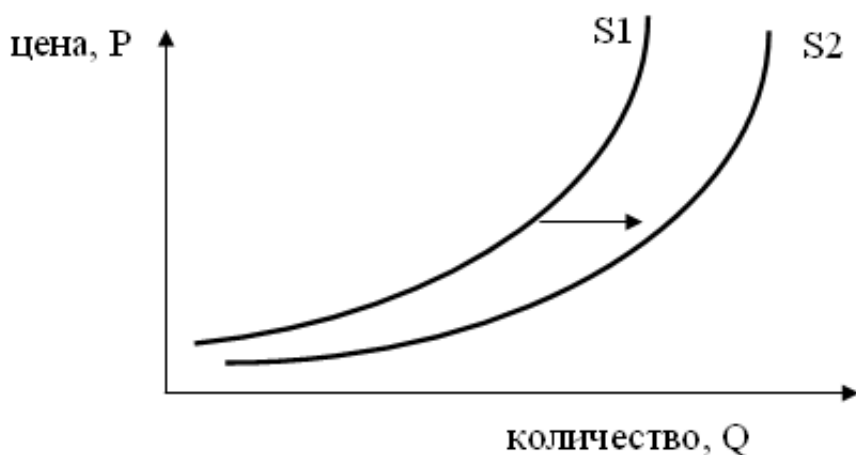
- 1) капитал
- 2) торговля
- 3) потребление
- 4) распределение

Статьи государственного бюджета включают

- 1) фиксированные цены на товары массового спроса
- 2) объём производимой промышленной продукции
- 3) поступления в виде налогов с физических и юридических лиц
- 4) данные о численности безработных

На графике изображено изменение предложения роликовых коньков на потребительском рынке. Что из приведённого ниже могло вызвать сдвиг кривой предложения из положения S1

в положение S2? (На графике по вертикали – цена товара, по горизонтали – количество товара.)



- 1) сокращение количества фирм, производящих роликовые коньки
- 2) внедрение новых технологий производства роликовых коньков
- 3) рост цен на комплектующие изделия для роликовых коньков
- 4) рост тарифов на электроэнергию

Верны ли следующие суждения о предмете экономики как науки?

- А. Экономика – наука о принципах функционирования рыночных механизмов.
Б. Экономика – наука о рациональном и эффективном использовании ограниченных ресурсов.

- 1) верно только А
- 2) верно только Б
- 3) верны оба суждения
- 4) оба суждения неверны

Проиллюстрируйте тремя примерами влияние конкуренции на развитие производства.

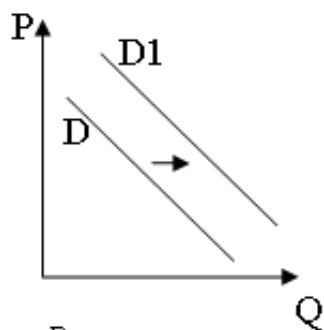
В стране Н. государство решило выкупить у частных компаний предприятия, ставшие убыточными. Какое понятие используется для характеристики этих властных решений государства?

- 1) национализация
- 2) приватизация
- 3) девальвация
- 4) акционирование

Центральный банк

- 1) принимает вклады граждан
- 2) выдает ипотечные кредиты

- 3) осуществляет эмиссию денег
- 4) утверждает законы, регулирующие экономическую деятельность



P – цена товара,
Q – объем спроса товара

На рисунке отражена ситуация на рынке автомобилей – линия спроса D переместилась в новое положение D1. Это перемещение может быть связано, в первую очередь, с

- 1) совершенствованием технологии производства автомобилей
- 2) уменьшением издержек производства автомобилей
- 3) увеличением объёма услуг общественного транспорта
- 4) увеличением доходов населения

Верны ли следующие суждения об экономической науке?

- А. Экономическая наука изучает хозяйственную деятельность людей.
Б. Экономическая наука изучает только современное общество.

- 1) верно только А
- 2) верно только Б
- 3) верны оба суждения
- 4) оба суждения неверны

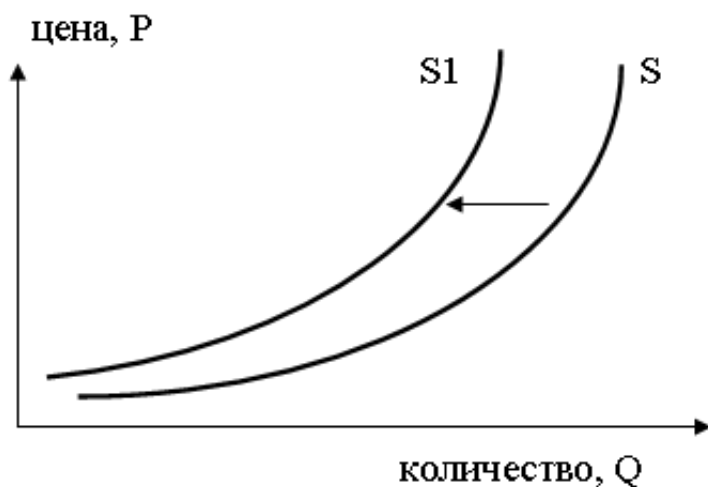
В государстве Z экономика основывается на государственном планировании хозяйственной деятельности. Это характерно для экономической системы

- 1) любого типа
- 2) рыночной
- 3) командной
- 4) традиционной

Какое экономическое явление отражается в следующем описании социальной ситуации: «Цены росли так быстро, что официанты меняли их в меню по несколько раз за время обеда. Иногда посетителям ресторанов приходилось платить за еду вдвое больше той цены, которая значилась в меню, когда они только делали заказ»?

- 1) инфляция
- 2) специализация
- 3) деноминация
- 4) национализация

На рисунке отражены изменения, произошедшие с предложением пшеницы на соответствующем рынке. Перемещение кривой предложения S в новое положение S_1 может быть связано, в первую очередь, с(со)



- 1) увеличением доходов производителей пшеницы
- 2) увеличением цен на минеральные удобрения
- 3) уменьшением цен на земельные участки
- 4) снижением цен на дизельное топливо и бензин

Верны ли следующие суждения об экономических системах?

- А. В регулировании традиционной экономики значительную роль играют обычаи и устои.
- Б. Рыночная экономика побуждает производителей к снижению производственных затрат и повышению производительности труда.

- 1) верно только А
- 2) верно только Б
- 3) верны оба суждения
- 4) оба суждения неверны

В городке Z электроэнергию, отопление, подачу воды в дома жителей осуществляет только одна компания.

Выберите из приведённого ниже списка характеристики данного рынка и запишите цифры, под которыми они указаны.

- 1) рынок средств производства
- 2) чистая конкуренция
- 3) местный рынок
- 4) рыночный дефицит
- 5) монополия
- 6) рынок услуг

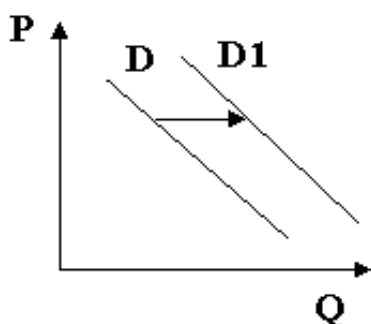
Ответ: _____.

К очевидным преимуществам рыночной экономики следует отнести

- 1) восприимчивость к достижениям науки и техники
- 2) гармонию личных и общественных интересов
- 3) неуклонное движение в сторону полной занятости
- 4) снижение миграционных процессов

Центральный банк, в отличие от коммерческих банков,

- 1) осуществляет финансовые операции
- 2) производит эмиссию денег
- 3) участвует в торгах на валютной бирже
- 4) работает с вкладами граждан и фирм



На рисунке отражена ситуация на рынке компьютерной техники (**P** – цена товара, **Q** – количество товара). Ряд фирм-производителей предложили потребителям новую модель ноутбуков небольшого размера и веса. Проанализируйте изменение спроса на них (линия спроса **D** переместилась в положение **D1**).

Какая из приведённых ниже причин объясняет изменения спроса?

- 1) Фирмы-производители неверно установили цену ноутбуков, которая испугала потребителей.
- 2) Потребители не сразу разобрались в возможностях новой модели ноутбуков.
- 3) Среди фирм-производителей отсутствует реальная конкуренция.
- 4) Потребители реагируют на интенсивную рекламу новых товаров.

Верны ли следующие суждения о роли государства в экономике?

А. Государство является производителем общественных благ.

Б. Государство всегда регулирует распределение ограниченных факторов производства.

- 1) верно только А
- 2) верно только Б
- 3) верны оба суждения
- 4) оба суждения неверны

Ниже приведён ряд терминов. Все они, за исключением одного, относятся к названиям видов ценных бумаг.

Вексель, облигация, акция, дивиденды, чек.

Найдите и укажите термин, «выпадающий» из общего ряда.

В городке Z поставку продуктов питания в магазины осуществляет множество компаний, в число которых входят как крупные производители, так и отдельные фермерские хозяйства. Выберите из приведённого ниже списка характеристики данного рынка и запишите цифры, под которыми они указаны.

- 1) рынок товаров и услуг
- 2) избыток продукции
- 3) местный рынок
- 4) рынок информации
- 5) чистая конкуренция
- 6) олигополия

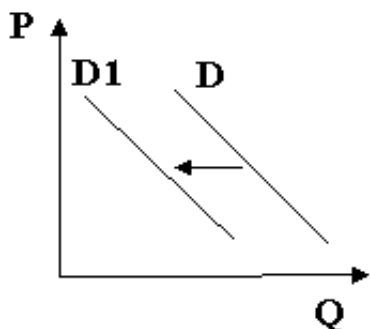
Вам поручено подготовить развёрнутый ответ по теме «Рынок труда». Составьте план, в соответствии с которым вы будете освещать эту тему. План должен содержать не менее трёх пунктов, из которых два или более детализированы в подпунктах.

В стране Z производятся различные товары и услуги. Какая дополнительная информация подтверждает наличие в стране Z командной экономики?

- 1) основные вопросы экономики решаются с опорой на опыт предков
- 2) в сельском хозяйстве преобладает растениеводство
- 3) города являются центрами экономической жизни
- 4) собственником земли и предприятий является государство

К рискам открытия внутреннего рынка для иностранных производителей относится

- 1) увеличение разнообразия предлагаемых товаров и услуг
- 2) снижение цен из-за увеличения предложения
- 3) зависимость экономики страны от импорта ряда товаров
- 4) увеличение доходов государственного бюджета



На рисунке отражена ситуация на рынке страховых услуг (P – цена, Q – количество). Проанализируйте изменение спроса (линия спроса D переместилась в положение $D1$).

Чем может объясняться подобное изменение?

- 1) снижением выплат после наступления страховых случаев
- 2) повышением доходов потребителей
- 3) увеличением числа страховых компаний
- 4) введением обязательного страхования автогражданской ответственности

Верны ли следующие суждения о налогах?

- А. Налоги являются добровольными выплатами граждан и фирм в пользу государства.
 Б. Большинство налогов имеют невозвратный характер.

- 1) верно только А
- 2) верно только Б
- 3) верны оба суждения
- 4) оба суждения неверны

Запишите слово, пропущенное в таблице.

Виды издержек фирмы	Их сущность
Постоянные	Издержки, размер которых не зависит от объема производства.
...	Издержки, которые возрастают с увеличением объема производства и снижаются при его сокращении.

Прочитайте приведённый ниже текст, в котором пропущен ряд слов.

Выберите из предлагаемого списка слова, которые необходимо вставить на место пропусков.

«Экономика, хозяйство, _____ (А) имеют общую основу - ограниченность ресурсов, разделение труда и _____ (Б) продуктами. Система здесь необходима для установления определённого _____ (В) между ограниченными ресурсами для производства _____ (Г) и безграничными потребностями людей в них. Совместить эти факты экономического _____ (Д) можно лишь в условиях такой системы хозяйствования, при которой производство реально было бы заинтересовано в _____ (Е) использования ограниченных ресурсов, выпуске товаров, пользующихся спросом потребителей».

Слова в списке даны в именительном падеже. Каждое слово (словосочетание) может быть использовано только один раз.

Выбирайте последовательно одно слово за другим, мысленно заполняя каждый пропуск. Обратите внимание на то, что слов в списке больше, чем вам потребуется для заполнения пропусков.

Список терминов:

- 1) блага
- 2) зависимость
- 3) равновесие
- 4) бытие

- 5) эффективность
- 6) цена
- 7) рынок
- 8) технология
- 9) обмен

В данной ниже таблице приведены буквы, указывающие на пропуск слова. Запишите в таблицу под каждой буквой номер выбранного вами слова.

Правительство демократического государства Z ввело пропорциональную шкалу индивидуального подоходного налога. Используя обществоведческие знания, приведите три аргумента (обоснования) в пользу подобного выбора.

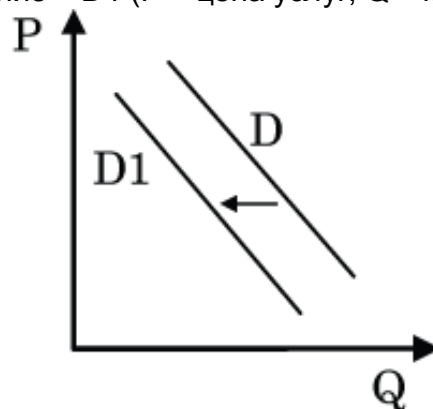
В стране Z правительство принимает конкретные решения об объёмах и структуре производства, уровне заработной платы всех категорий работников, устанавливает цены и тарифы. К какому типу хозяйственных систем можно отнести экономику страны Z?

- 1) смешанному
- 2) командному
- 3) рыночному
- 4) традиционному

Что является доходом потребителя от использования собственности?

- 1) государственная пошлина
- 2) налог на наследство
- 3) дивиденды по акциям
- 4) страховые взносы

На графике отражена ситуация на рынке парикмахерских услуг: линия спроса D переместилась в новое положение – $D1$ (P – цена услуг, Q – количество услуг).



Это перемещение может быть связано, прежде всего, с

- 1) увеличением количества салонов красоты
- 2) модой на сложные причёски у женщин
- 3) появлением в продаже эффективных средств для самостоятельного ухода за волосами
- 4) увеличением доходности салонов красоты

Верны ли следующие суждения о затратах фирмы?

- А. Часть затрат фирмы не зависит от количества и качества производимой продукции.
Б. Затраты фирмы связаны с приобретением необходимых факторов производства и организацией сбыта товара.
- 1) верно только А
 - 2) верно только Б
 - 3) верны оба суждения
 - 4) оба суждения неверны

Установите соответствие между примерами и видами безработицы, которые они иллюстрируют: к каждой позиции, данной в первом столбце, подберите соответствующую позицию из второго столбца.

ПРИМЕРЫ

ВИДЫ БЕЗРАБОТИЦЫ

- | | |
|--|--|
| <p>А) в связи с экономическим кризисом фирмы, производящие различные товары и услуги, сократили численность персонала</p> <p>Б) выпускники творческих вузов ищут работу по специальности, не соглашаясь ни на какую другую</p> <p>В) в службе занятости безработные отказываются от рабочих вакансий и просят подобрать работу менеджеров</p> <p>Г) в связи с изменением спроса на энергоресурсы многие шахты закрылись, а шахтеры остались без работы</p> <p>Д) полгода жители городка на морском побережье обслуживают туристов, а в остальное время большинство из них не могут найти себе работу</p> | <ol style="list-style-type: none">1) циклическая2) структурная3) фрикционная4) сезонная |
|--|--|

Запишите в таблицу выбранные цифры под соответствующими буквами.

Раскройте смысл высказывания в форме мини-сочинения, обозначив при необходимости разные аспекты поставленной автором проблемы (затронутой темы). При изложении своих мыслей по поводу поднятой проблемы (обозначенной темы), при аргументации своей точки зрения используйте **знания**, полученные при изучении курса обществознания, соответствующие **понятия**, а также **факты** общественной жизни и собственный жизненный опыт. (В качестве фактической аргументации приведите не менее двух примеров из различных источников.)

Экономика	«Значение непроизводственных активов сегодня растёт. Идеи, люди, групповая работа, коммуникации, энтузиазм и, наконец, знания». (А.М. Веббер)
-----------	---

Банкротство нескольких угледобывающих предприятий в связи с переходом промышленности на другие источники энергии вызвало безработицу значительной части населения региона Z. К какому типу относится безработица в регионе Z?

- 1) структурная
- 2) циклическая
- 3) сезонная
- 4) кризисная

Отличительным признаком рыночной экономики является

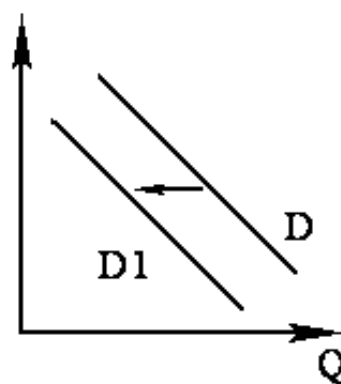
- 1) массовое производство товаров
- 2) конкуренция производителей
- 3) наличие товарно-денежных отношений
- 4) законодательная защита государственной собственности

Что относится к расходам государственного бюджета?

- 1) средства от продажи государственных облигаций
- 2) средства на защиту окружающей среды
- 3) таможенные пошлины и сборы
- 4) налоговые выплаты граждан и фирм

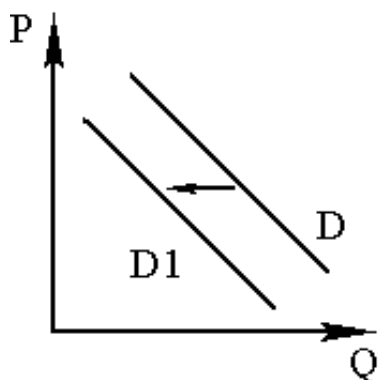
На графике отражена ситуация на рынке мяса и мясных продуктов: линия спроса D переместилась в новое положение – $D1$ (P – цена товара, Q – количество товара).

Это перемещение может быть связано, прежде всего, с (со)



- 1) снижением налогов с производителей мясных продуктов
- 2) известием об эпидемическом заболевании животных
- 3) увеличением доходов потребителей
- 4) ростом числа производителей мясных продуктов

На графике отражена ситуация на рынке мяса и мясных продуктов: линия спроса D переместилась в новое положение – $D1$ (P – цена товара, Q – количество товара).



Это перемещение может быть связано, прежде всего, с (со)

- 1) снижением налогов с производителей мясных продуктов
- 2) распространением вегетарианства среди потребителей
- 3) увеличением доходов потребителей

4) ростом числа производителей мясных продуктов

Верны ли следующие суждения о финансовых институтах?

А. К финансовым институтам относятся банки и страховые компании.

Б. Посредством финансовых институтов в рыночной экономике осуществляется выделение средств для ведения хозяйственной деятельности.

- 1) верно только А
- 2) верно только Б
- 3) верны оба суждения
- 4) оба суждения неверны

Прочитайте приведённый ниже текст, в котором пропущен ряд слов. Выберите из предлагаемого списка слова, которые необходимо вставить на место пропусков.

«Ограниченность – недостаточность объёма имеющихся _____ (А) всех видов для производства того объёма благ, который люди хотели бы получить. Ограниченность труда связана с тем, что число _____ (Б) жителей любой страны строго фиксировано в любой момент времени. Кроме того, по своим _____ (В), имеющимся навыкам лишь часть граждан пригодна для выполнения конкретных видов работ. Эти ограничения можно ослабить, например, за счёт приглашения рабочих из-за рубежа или переобучения и подготовки работников по наиболее _____ (Г). Но на всё это нужно время, а моментального расширения рамок рабочей силы добиться невозможно. Ограниченность земли (природных ресурсов) определяется _____ (Д) страны и наличием в её недрах месторождений полезных ископаемых. Ограниченность капитала определяется предыдущим развитием страны, тем, какой _____ (Е) она успела накопить».

Слова в списке даны в именительном падеже. Каждое слово (словосочетание) может быть использовано только **один** раз.

Выбирайте последовательно одно слово за другим, мысленно заполняя каждый пропуск. Обратите внимание на то, что в списке слов больше, чем Вам потребуется для заполнения пропусков.

Перечень терминов:

- 1) торговля
- 2) способности
- 3) география
- 4) производственный потенциал
- 5) ресурсы
- 6) дефицитные специальности
- 7) трудоспособные
- 8) система образования
- 9) демографические

В данной ниже таблице приведены буквы, обозначающие пропущенные слова. Запишите в таблицу под каждой буквой номер выбранного Вами слова.

Проиллюстрируйте тремя примерами влияние финансовой стабильности в стране на успешность экономической деятельности индивидов и фирм (предприятий).

Раскройте смысл высказывания в форме мини-сочинения, обозначив при необходимости разные аспекты поставленной автором проблемы (затронутой темы). При изложении своих мыслей по поводу поднятой проблемы (обозначенной темы), при аргументации своей точки

зрения используйте **знания**, полученные при изучении курса обществознания, соответствующие **понятия**, а также **факты** общественной жизни и собственный жизненный опыт. (В качестве фактической аргументации приведите не менее двух примеров из различных источников.)

Экономика	«Погоня за прибылью – единственный способ, при помощи которого люди могут удовлетворять потребности тех, кого они вовсе не знают». (Ф. Хайек)
-----------	---

Валовым внутренним продуктом называют

- 1) систему организации национальной экономики
- 2) общественную потребность в определённом количестве товаров и услуг
- 3) совокупность природных и социальных сил, которые потенциально пригодны для производства товаров и услуг
- 4) сумму рыночных цен всех конечных продуктов, произведённых в течение года на территории страны

К недостаткам рыночной экономики можно отнести

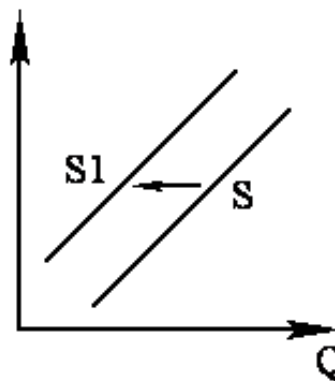
- 1) дефицит товаров
- 2) излишек товаров
- 3) наличие конкуренции
- 4) значительную дифференциацию доходов

Что ограничивает спрос потребителя в рыночной экономике?

- 1) реклама товаров
- 2) объём импорта
- 3) конкуренция производителей
- 4) уровень доходов

На графике отражена ситуация на рынке кондитерских изделий: линия предложения S переместилась в новое положение – S_1 (P – цена товара, Q – количество товара).

Это перемещение может быть связано, прежде всего, с



- 1) низкими ценами на сахар и какао-бобы
- 2) выдачей льготных кредитов кондитерским предприятиям
- 3) увеличением доходов потребителей
- 4) пропагандой продуктов с низким содержанием сахара

Верны ли следующие суждения об источниках финансирования бизнеса?

А.Основным источником финансирования бизнеса выступают частные и государственные инвестиции.

Б.Граждане могут участвовать в финансировании бизнеса, уплачивая установленные законом налоги.

- 1) верно только А
- 2) верно только Б
- 3) верны оба суждения
- 4) оба суждения неверны

Ниже приведён ряд терминов. Все они, за исключением двух, относятся к понятию «рыночная экономика».

1) Государственный план; 2) свобода потребителя; 3) предприниматель; 4) директивные цены; 5) спрос; 6) равновесная цена.

Найдите два термина, «выпадающих» из общего ряда, и запишите в таблицу цифры, под которыми они указаны.

Выберите понятие, которое является обобщающим для остальных понятий представленного ниже ряда, и запишите цифру, под которым оно указано.

1) Земля; 2) труд; 3) факторы производства; 4) капитал; 5) предпринимательские способности.

Вам поручено подготовить развёрнутый ответ по теме «Семейная экономика». Составьте план, в соответствии с которым Вы будете освещать эту тему. План должен содержать не менее трёх пунктов, из которых два или более детализированы в подпунктах.

Раскройте смысл высказывания в форме мини-сочинения, обозначив при необходимости разные аспекты поставленной автором проблемы (затронутой темы). При изложении своих мыслей по поводу поднятой проблемы (обозначенной темы), при аргументации своей точки зрения используйте **знания**, полученные при изучении курса обществознания, соответствующие **понятия**, а также **факты** общественной жизни и собственный жизненный опыт. (В качестве фактической аргументации приведите не менее двух примеров из различных источников.)

Экономика	«Высшее призвание капитала не в том, чтобы делать деньги, а в том, чтобы делать больше денег ради улучшения жизни». (Г. Форд)
-----------	---

Что из перечисленного изучает экономика как наука?

- 1) ведение учёта имущества на предприятии
- 2) причины опозданий электропоездов на железной дороге
- 3) порядок обмена отечественных денежных знаков на иностранные
- 4) общие закономерности принятия хозяйственных решений

На фондовой бирже в условиях финансового кризиса произошло снижение курса акций

крупных компаний. Примером функционирования какого рынка является данный факт?

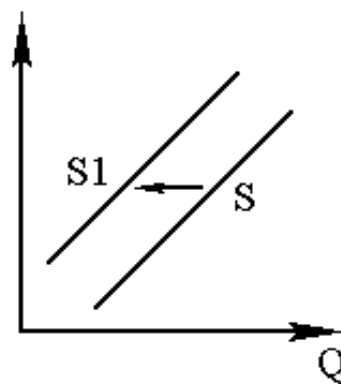
- 1) недвижимости
- 2) труда
- 3) капиталов
- 4) инноваций

Налоговые поступления в бюджет государства позволяют финансировать социальные программы. Какая функция налогов проявляется в данном факте?

- 1) перераспределительная
- 2) воспитательная
- 3) фискальная
- 4) хозяйственная

На графике отражено изменение предложения школьно-письменных принадлежностей на соответствующем рынке: линия предложения S переместилась в новое положение – $S1$ (P – цена товара, Q – количество товара).

Это перемещение может быть связано в первую очередь со (с)



- 1) ростом общего числа школьников
- 2) увеличением числа предприятий в отрасли
- 3) завершением учебного года
- 4) снижением стоимости используемого сырья

Верны ли следующие суждения о ценных бумагах?

А. Ценные бумаги продаются и покупаются на фондовых биржах.

Б. Особенностью ценной бумаги является способность приносить ее владельцу доход.

- 1) верно только А
- 2) верно только Б
- 3) верны оба суждения
- 4) оба суждения неверны

Найдите в приведённом списке факторы, влияющие на повышение спроса на потребительские товары. Запишите цифры, под которыми они указаны.

- 1) увеличение доходов семей
- 2) повышение налога на добавленную стоимость
- 3) снижение производства товаров
- 4) снижение цен на товары
- 5) интенсивная реклама товаров

6) удорожание потребительских кредитов

Росту сбережений потребителей в первую очередь способствует

- 1) улучшение качества товаров и услуг
- 2) увеличение доходов
- 3) отсутствие дефицита товаров
- 4) увеличение подоходного налога

Рост популярности кафе с разнообразным ассортиментом десертов резко повысил потребность в таких специалистах, как кондитеры. Какую особенность рынка труда иллюстрирует этот пример?

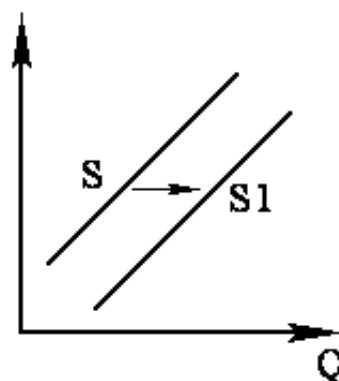
- 1) связь спроса на труд со спросом на товары и услуги
- 2) мобильность работников
- 3) высокую конкуренцию работников
- 4) установление определённого уровня безработицы

Центральный банк РФ

- 1) принимает на счета сбережения граждан
- 2) выдаёт кредиты гражданам и фирмам
- 3) лицензирует коммерческие банки
- 4) утверждает государственный бюджет

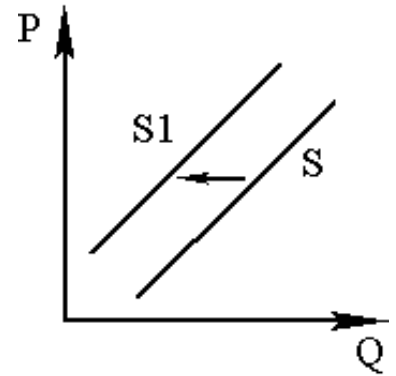
На графике отражена ситуация на рынке экзотических фруктов: линия предложения S переместилась в новое положение – S_1 (P – цена товара, Q – количество товара).

Это перемещение может быть связано, прежде всего, с (со)



- 1) ростом таможенных пошлин на импорт фруктов
- 2) высоким урожаем экзотических фруктов
- 3) повышением тарифов на грузовые перевозки
- 4) снижением доходов потребителей

На графике отражена ситуация на рынке импортных экзотических фруктов: линия предложения S переместилась в новое положение – S_1 (P – цена товара, Q – количество товара). Это перемещение может быть связано, прежде всего, с



- 1) ростом таможенных пошлин на импорт фруктов
- 2) высоким урожаем экзотических фруктов
- 3) неурожаем местных фруктов и ягод
- 4) возникновением моды на потребление блюд из экзотических фруктов

Верны ли следующие суждения о последствиях инфляции?

- А. От инфляции страдают вкладчики банков, если проценты по депозитам меньше уровня инфляции.
 Б. От инфляции страдают, прежде всего, люди с фиксированным доходом.

- 1) верно только А
- 2) верно только Б
- 3) верны оба суждения
- 4) оба суждения неверны

Запишите слово, пропущенное в таблице.

Факторы производства

ВИДЫ ФАКТОРОВ ПРОИЗВОДСТВА	СУЩНОСТЬ
Труд	Деятельность людей по производству товаров и услуг путём использования их умственных и физических способностей, полученных в процессе обучения и работы знаний и навыков
...	Все виды природных ресурсов, имеющих на планете и пригодных для производства экономических благ

В стране Z сократились потребление и экспорт угля, большинство шахт закрылось, десятки тысяч шахтёров потеряли работу. Выберите из приведённого ниже списка характеристики возникшей безработицы и запишите цифры, под которыми они указаны.

- 1) структурная безработица
- 2) добровольная безработица
- 3) скрытая безработица
- 4) фрикционная безработица
- 5) сезонная безработица

6) массовая безработица

В выступлении главы современного индустриального государства с рыночной экономикой перед правительством и парламентом прозвучало требование создать условия для ускорения экономического роста в стране. Используя обществоведческие знания, укажите любые три меры, которые может предпринять государство в этом направлении, и кратко поясните влияние каждой из них на рост экономики страны.

Раскройте смысл высказывания в форме мини-сочинения, обозначив при необходимости разные аспекты поставленной автором проблемы (затронутой темы). При изложении своих мыслей по поводу поднятой проблемы (обозначенной темы), при аргументации своей точки зрения используйте **знания**, полученные при изучении курса обществознания, соответствующие **понятия**, а также **факты** общественной жизни и собственный жизненный опыт. (В качестве фактической аргументации приведите не менее двух примеров из различных источников.)

Экономика	«Каждый живёт, продавая что-то». (Р.Л. Стивенсон)
-----------	---

Основная проблема любой экономической системы – проблема

- 1) модернизации производства
- 2) ограниченности ресурсов
- 3) обесценивания денег
- 4) привлечения к труду всего трудоспособного населения

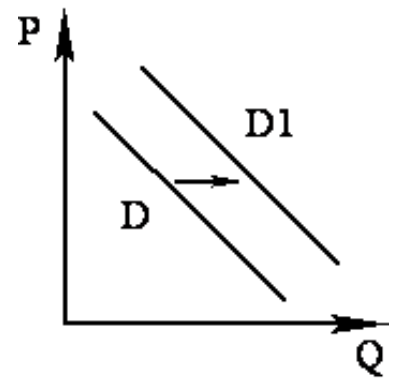
Владелица салона красоты еженедельно закупает шампуни, маски и средства для укладки волос, кремы и другие товары. Издержки на эти покупки относятся к

- 1) постоянным
- 2) рыночным
- 3) неявным
- 4) переменным

Государственный бюджет

- 1) определяет уровень инфляции в стране
- 2) регулирует объём денежной массы
- 3) отражает основные направления внутренней политики
- 4) устанавливает минимальный размер оплаты труда

На рисунке отражена ситуация на рынке инвентаря для зимних видов спорта: линия спроса D переместилась в новое положение – D_1 (P – цена товара, Q – объём спроса товара). Это перемещение может быть связано, прежде всего, с (со)



- 1) снижением доходов населения
- 2) популяризацией зимних видов спорта
- 3) развитием сети фитнес-клубов
- 4) затяжной оттепелью в зимний период

Верны ли следующие суждения об источниках финансирования бизнеса?

А. Источниками финансирования бизнеса выступают частные и государственные инвестиции.

Б. Граждане могут участвовать в финансировании бизнеса, осуществляя покупку акций фирм на фондовой бирже.

- 1) верно только А
- 2) верно только Б
- 3) верны оба суждения
- 4) оба суждения неверны

Найдите понятие, которое является обобщающим для всех остальных понятий представленного ниже ряда, и запишите цифру, под которой оно указано.

- 1) *Несовершенство рынка;*
- 2) *невозможность производства общественных благ;*
- 3) *компенсация внешних эффектов;*
- 4) *монополизация рынков;*
- 5) *неравенство доходов.*

Какой смысл экономисты вкладывают в понятие «инфляция»? Привлекая знания обществоведческого курса, составьте два предложения, содержащих информацию об инфляции.

Потребитель выиграет в условиях рыночной экономики при

- 1) устранении монополизации экономики
- 2) централизованном планировании производства
- 3) повышении налогов на производителя
- 4) установлении ввозных пошлин

Государство выполняет ряд функций в экономической жизни общества. Что является примером правового регулирования экономической деятельности?

- 1) государственное финансирование медицинских учреждений
- 2) создание наукоградов и технопарков

- 3) принятие законодательства о банковской деятельности
- 4) предоставление государственных заказов ряду предприятий

В какой из приведённых ситуаций речь идёт об ипотечном кредите?

- 1) Гражданка М. взяла в банке кредит на покупку норковой шубы.
- 2) Гражданин Н. оформил кредит на приобретение квартиры.
- 3) Торговая сеть получила в коммерческом банке кредит на закупку товаров.
- 4) Государственное предприятие получило кредит на закупку оборудования.

Верны ли следующие суждения об измерителях экономического роста?

А. К измерителям экономического роста относят ВВП, ВНП, национальный доход.

Б. Правительство может планировать рост ВВП и проводить экономическую политику, обеспечивающую этот рост.

- 1) верно только А
- 2) верно только Б
- 3) верны оба суждения
- 4) оба суждения неверны

Ниже приведён перечень терминов. Все они, за исключением двух, характеризуют понятие «центральный банк».

1) Эмиссия денег; 2) лицензирование финансовых организаций; 3) установление учётной ставки; 4) принятие государственного бюджета; 5) открытие депозитов; 6) обеспечение расчётов правительства.

Найдите два термина, «выпадающие» из общего ряда, и запишите в таблицу цифры, под которыми они указаны.

Назовите и проиллюстрируйте примерами любые две особенности предпринимательской деятельности.

Раскройте смысл высказывания в форме мини-сочинения, обозначив при необходимости разные аспекты поставленной автором проблемы (затронутой темы). При изложении своих мыслей по поводу поднятой проблемы (обозначенной темы), при аргументации своей точки зрения используйте **знания**, полученные при изучении курса обществознания, соответствующие **понятия**, а также **факты** общественной жизни и собственный жизненный опыт. (В качестве фактической аргументации приведите не менее двух примеров из различных источников.)

Экономика	«Индивидуум, движимый только жадой денег, явно болен. То же, я полагаю, можно сказать о компании, единственная цель которой – прибыль». (Р. Хэйан)
-----------	--

К признакам рыночной экономической системы относится

- 1) частная собственность
- 2) централизованное принятие решений
- 3) директивное установление цен
- 4) низкий уровень социальной мобильности

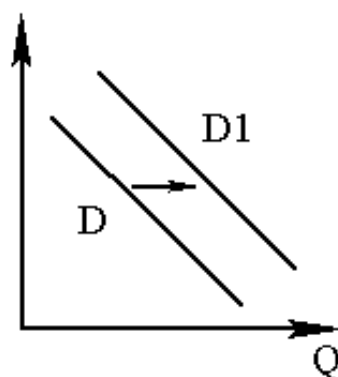
К экономически активному трудоспособному населению относятся

- 1) старшеклассники общеобразовательных школ
- 2) студенты дневных отделений вузов
- 3) выпускники университетов
- 4) владеющие собственностью пенсионеры

Устойчивый рост цен на товары и услуги, связанный с одновременным повышением спроса на большинстве рынков страны, называют

- 1) инфляцией спроса
- 2) дефицитом
- 3) инфляцией издержек
- 4) ажиотажным спросом

На рисунке отражена ситуация на рынке услуг мобильной связи (P – цена, Q – количество услуг). Ряд компаний-операторов предложили потребителям новую услугу. Проанализируйте изменение спроса на неё (линия спроса D переместилась в положение D_1). Какой из приведённых ниже выводов непосредственно следует из данных графиков?



- 1) Компании-операторы неверно установили цену услуги, это отпугнуло потребителей.
- 2) Потребители оценили полезность новой услуги.
- 3) Компании-операторы не смогли обеспечить высокое качество предлагаемой услуги.
- 4) Доходы населения существенно сократились.

Верны ли следующие суждения о дефиците государственного бюджета?

- А. Дефицит государственного бюджета может быть покрыт за счёт иностранных займов и кредитов.
- Б. Для устранения дефицита своего бюджета государство снижает таможенные пошлины на ввозимые товары.

- 1) верно только А
- 2) верно только Б
- 3) верны оба суждения

4) оба суждения неверны

Запишите слово, пропущенное в таблице.

ФАКТОР ПРОИЗВОДСТВА	ХАРАКТЕРИСТИКА
Труд	Использование в процессе производства товаров и услуг физических и умственных способностей людей
...	Денежные средства, знания, сооружения, оборудование, используемое при производстве товаров, услуг

Какой смысл экономисты вкладывают в понятие «производство»? Привлекая знания обществоведческого курса, составьте два предложения, содержащие информацию о производстве.

Раскройте смысл высказывания в форме мини-сочинения, обозначив при необходимости разные аспекты поставленной автором проблемы (затронутой темы). При изложении своих мыслей по поводу поднятой проблемы (обозначенной темы), при аргументации своей точки зрения используйте **знания**, полученные при изучении курса обществознания, соответствующие **понятия**, а также **факты** общественной жизни и собственный жизненный опыт. (В качестве фактической аргументации приведите не менее двух примеров из различных источников.)

Экономика	«Существует только один босс – Потребитель. И он может уволить любого из компании, начиная с руководства, просто тратя деньги где-то ещё». (С. Вальтон)
-----------	---

Что содействует эффективности производства в условиях рынка?

- 1) введение новых налогов
- 2) государственное регулирование затрат производства
- 3) экономическая свобода производителей
- 4) устранение разделения труда

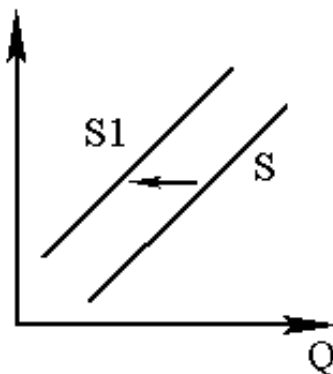
Экономический кризис привёл к закрытию предприятий и росту безработицы во многих отраслях. Какой вид безработицы иллюстрируется этим примером?

- 1) фрикционная
- 2) циклическая
- 3) сезонная
- 4) структурная

Как дефицит государственного бюджета влияет на экономику?

- 1) уменьшает неравенство в доходах населения
- 2) увеличивает государственный долг
- 3) снижает мотивацию к труду
- 4) приводит к введению льготного налогообложения

На рисунке отражена ситуация на рынке парикмахерских услуг (P – цена, Q – количество). Проанализируйте изменение предложения (линия предложения S переместилась в положение $S1$). Чем может быть объяснено подобное изменение?



- 1) В моду у женщин вошли сложные причёски и макияж.
- 2) Реклама парикмахерских услуг стала более интенсивной.
- 3) В стране установилась неблагоприятная экономическая ситуация.
- 4) Количество парикмахерских салонов увеличилось.

Верны ли следующие суждения о роли государства в экономике?

А. Одним из механизмов регулирования государством экономической деятельности граждан и фирм является налоговая политика.

Б. Любое государство обеспечивает эффективное использование факторов производства.

- 1) верно только А
- 2) верно только Б
- 3) верны оба суждения
- 4) оба суждения неверны

Вам поручено подготовить развёрнутый ответ по теме «Закон предложения и деятельность фирм». Составьте план, в соответствии с которым Вы будете освещать эту тему. План должен содержать не менее трёх пунктов, из которых два или более детализированы в подпунктах.

Что из приведённого ниже относится к сфере потребления?

- 1) оказание страховых услуг
- 2) производство мебели на заказ
- 3) использование в быту отопления
- 4) сбор налогов

Понятие «факторы производства» используется для обозначения

- 1) неограниченных производственных ресурсов
- 2) особенностей потребительского спроса

- 3) показателей качества продукции
- 4) ресурсов, используемых в процессе создания благ

Какое из приведённых ниже понятий объединяет три других?

- 1) учётная ставка
- 2) эмиссия денег
- 3) лицензирование
- 4) центральный банк

Верны ли следующие суждения об экономике?

А. Экономика не подвержена влиянию других сфер общества.

Б. Экономика позволяет полностью удовлетворить разнообразные потребности человека и общества.

- 1) верно только А
- 2) верно только Б
- 3) верны оба суждения
- 4) оба суждения неверны

Прочитайте приведённый ниже текст, каждое положение которого обозначено определённой буквой.

(А) По мере роста благосостояния российских семей в последнее десятилетие удельный вес расходов на питание снизился. (Б) При этом растут расходы на удовлетворение культурных потребностей. (В) Наверное, труднее всего семьям удовлетворить потребность в комфортном жилье. (Г) Нельзя не признать, что в ряде случаев высокие цены на жильё поддерживаются искусственно. (Д) Цены выступают источником важной информации о состоянии данного рынка как для производителя, так и для потребителя.

Определите, какие положения текста имеют

- 1) фактический характер
- 2) характер оценочных суждений
- 3) характер теоретических утверждений

Запишите в таблицу под буквой, обозначающей положение, цифру, выражающую его характер.

Какой смысл обществоведы вкладывают в понятие «рыночная конкуренция»? Привлекая знания обществоведческого курса, составьте два предложения, содержащие информацию о рыночной конкуренции.

Существует несколько значений понятия «экономика». Какое положение иллюстрирует экономику как науку?

- 1) производство большой партии новых пылесосов
- 2) оказание населению медицинских услуг

- 3) развитие телекоммуникационных сетей и сетей мобильной связи
- 4) изучение моделей функционирования рынка труда

Повышение уровня безработицы в традиционных отраслях и наличие свободных мест в сфере высоких технологий и услуг характеризуют ситуацию на рынке

- 1) информации
- 2) средств производства
- 3) товаров и услуг
- 4) труда

Организацию, которая на финансовых рынках призвана обеспечить регулярное осуществление купли-продажи акций, облигаций и других ценных бумаг, называют

- 1) фондовой биржей
- 2) коммерческим банком
- 3) инвестиционным фондом
- 4) центральным банком

Верны ли следующие суждения об экономических системах?

- А. В условиях традиционной экономики отсутствует экономический рост.
- Б. В условиях рыночной экономики наблюдается циклическое экономическое развитие.
- 1) верно только А
 - 2) верно только Б
 - 3) верны оба суждения
 - 4) оба суждения неверны

Ниже приведён ряд терминов. Все они, за исключением двух, относятся к понятию «микроэкономика».

- 1) *Фирма*; 2) *локальный рынок*; 3) *фондовая биржа*; 4) *издержки*; 5) *бухгалтерская прибыль*;
6) *налоговая система страны*.

Найдите два термина, «выпадающих» из общего ряда и относящихся к другому понятию, и запишите в таблицу цифры, под которыми они указаны.

Государство Z переживает экономический подъём. Промышленность в своём развитии опережает сельское хозяйство. Законом установлено господство государственной собственности. Какая экономическая система существует в государстве Z? По какому признаку Вы это установили? Назовите любые два иных признака этой экономической системы.

Раскройте смысл высказывания в форме мини-сочинения, обозначив при необходимости разные аспекты поставленной автором проблемы (затронутой темы). При изложении своих мыслей по поводу поднятой проблемы (обозначенной темы), при аргументации своей точки зрения используйте **знания**, полученные при изучении курса обществознания,

соответствующие **понятия**, а также **факты** общественной жизни и собственный жизненный опыт. (В качестве фактической аргументации приведите не менее двух примеров из различных источников.)

Экономика

«Экономика меняется вместе с жизнью». (С. Вайн)

В командно-административной системе хозяйства вопрос о том, что производить, решается

- 1) государством
- 2) производителями
- 3) потребителями
- 4) зарубежными инвесторами

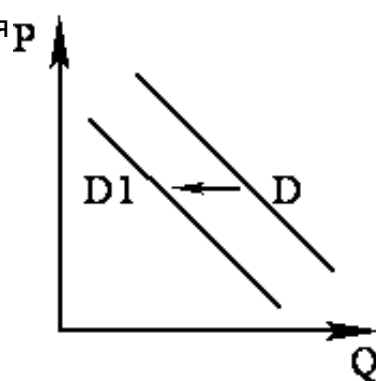
Государство выполняет ряд функций в экономической жизни общества. Что является примером стимулирования предпринимательской активности субъектов экономики?

- 1) создание открытых экономических зон
- 2) выплата пенсий и пособий различным категориям граждан
- 3) проведение антиинфляционной политики
- 4) выдача лицензий финансовым организациям

Что относится к преимуществам открытия внутреннего рынка для иностранных товаров?

- 1) установление зависимости национальной экономики от иностранных фирм
- 2) снижение объёмов производства ряда отечественных предприятий
- 3) увеличение прибылей транснациональных корпораций
- 4) рост предложения товаров и услуг на внутреннем рынке

На рисунке отражена ситуация на рынке товаров для детей: линия спроса D переместилась в новое положение – $D1$ (P – цена товара, Q – объём спроса товара). Это перемещение может быть связано, прежде всего, с (со)



- 1) снижением рождаемости
- 2) ростом доходов населения
- 3) реализацией программ поддержки семьи
- 4) снижением цен на товары для детей

Верны ли следующие суждения о безработице?

А. В число безработных граждан включают пенсионеров и детей.

Б. Одним из проявлений скрытой безработицы является переход на неполный рабочий день.

- 1) верно только А
- 2) верно только Б
- 3) верны оба суждения
- 4) оба суждения неверны

Прочитайте приведённый ниже текст, в котором пропущен ряд слов.

Выберите из предлагаемого списка слова, которые необходимо вставить на место пропусков.

«Формирование _____ (А) труда может сопровождаться конфликтами между работодателями и наёмными работниками. Основным методом защиты интересов _____ (Б) является создание профессиональных союзов, которые ведут переговоры от имени всех входящих в их состав людей.

Профессиональные союзы обычно стараются добиться улучшения условий и повышения _____ (В) своих членов, а также увеличения их заработной платы. Это делает работу для членов профсоюза более приятной и выгодной, но одновременно сужает _____ (Г) занятости и ведёт к росту цены товаров для покупателей, если величина прибыли в цене товара не снижается.

Заработная плата не должна опускаться ниже минимального уровня, основой расчёта которого является _____ (Д). Минимальная заработная плата устанавливается и меняется _____ (Е) власти».

Слова в списке даны в именительном падеже. Каждое слово (словосочетание) может быть использовано только один раз.

Выбирайте последовательно одно слово за другим, мысленно заполняя каждый пропуск. Обратите внимание на то, что слов в списке больше, чем Вам потребуется для заполнения пропусков.

Список терминов:

- 1) трудовой договор
- 2) рыночная цена
- 3) экономические границы
- 4) безработица
- 5) наёмные работники
- 6) прожиточный минимум
- 7) законодательные органы
- 8) безопасность труда
- 9) профессия

В данной ниже таблице приведены буквы, обозначающие пропущенные слова. Запишите в таблицу под каждой буквой номер выбранного Вами слова.

Прочитайте приведённый ниже текст, в котором пропущен ряд слов.

Выберите из предлагаемого списка слова, которые необходимо вставить на место пропусков.

«Формирование _____ (А) трудовых услуг может сопровождаться конфликтами между работодателями и наёмными работниками. Основным методом защиты интересов _____ (Б) является создание профессиональных союзов, которые ведут переговоры от имени всех входящих в их состав людей.

Профессиональные союзы обычно стараются добиться улучшения условий и повышения безопасности труда своих членов, а также увеличения их _____(В). Это делает работу более выгодной для членов профсоюза, но одновременно сужает экономические границы _____(Г) и ведёт к росту цены товаров для покупателей, если величина прибыли в цене товара не снижается.

Заработная плата не должна опускаться ниже минимального уровня, основой расчёта которого является _____(Д). Минимальный размер оплаты труда устанавливается и изменяется _____(Е) власти».

Слова в списке даны в именительном падеже. Каждое слово (словосочетание) может быть использовано только один раз.

Выбирайте последовательно одно слово за другим, мысленно заполняя каждый пропуск. Обратите внимание на то, что слов в списке больше, чем Вам потребуется для заполнения пропусков.

Список терминов:

- 1) трудящиеся
- 2) занятость
- 3) законодательные органы
- 4) заработная плата
- 5) трудовой договор
- 6) рыночная цена
- 7) профессия
- 8) налог
- 9) прожиточный минимум

В данной ниже таблице приведены буквы, обозначающие пропущенные слова. Запишите в таблицу под каждой буквой номер выбранного Вами слова.

Какой смысл экономисты вкладывают в понятие «налог»? Привлекая знания обществоведческого курса, составьте два предложения, содержащие информацию о налогах.

Раскройте смысл высказывания в форме мини-сочинения, обозначив при необходимости разные аспекты поставленной автором проблемы (затронутой темы). При изложении своих мыслей по поводу поднятой проблемы (обозначенной темы), при аргументации своей точки зрения используйте **знания**, полученные при изучении курса обществознания, соответствующие **понятия**, а также **факты** общественной жизни и собственный жизненный опыт. (В качестве фактической аргументации приведите не менее двух примеров из различных источников.)

Экономика	«Первая цель – качество, а прибыль сама придёт». (Из постулатов менеджмента)
-----------	--

По какому критерию осуществляется деление экономических систем на рыночные и нерыночные?

- 1) по уровню эффективности общественного производства
- 2) по типу политического режима
- 3) по времени возникновения
- 4) по способу регулирования хозяйственной деятельности

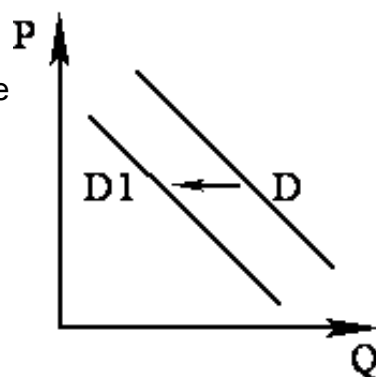
Салон красоты оказывает парикмахерские услуги клиентам. Что относится к постоянным издержкам фирмы?

- 1) ежемесячные премии парикмахерам
- 2) плата за аренду помещения салона
- 3) приобретение косметических средств
- 4) оплата электроэнергии и коммунальных услуг

Одним из источников доходов государственного бюджета являются(-ются)

- 1) средства от приватизации предприятий
- 2) дивиденды по акциям, принадлежащим фирмам
- 3) содержание государственных учреждений
- 4) субсидии государства на жилищно-коммунальные услуги населению

На рисунке отражена ситуация на рынке стационарных компьютеров: линия спроса D переместилась в новое положение – $D1$ (P – цена товара, Q – количество товара). Это перемещение может быть связано, прежде всего, с



- 1) широким распространением ноутбуков
- 2) ростом доходов населения
- 3) высоким уровнем компьютеризации
- 4) разработкой новых компьютерных программ

Верны ли следующие суждения о рынке труда?

А. Рынок труда характеризуется высокой профессиональной мобильностью.

Б. Люди, ищущие работу, формируют спрос на рынке труда.

- 1) верно только А
- 2) верно только Б
- 3) верны оба суждения
- 4) оба суждения неверны

Прочитайте приведённый ниже текст, каждое положение которого обозначено определённой буквой.

(А) Связь между ростом инфляции и обострением проблемы бедности имеет причинно-следственный характер. (Б) Особую тревогу вызывает ухудшение положения в условиях инфляции семей с фиксированным доходом. (В) Многие семьи пытаются спасти свои сбережения путём покупки валюты. (Г) Подобная практика крайне вредна для развития

экономики. (Д) Важно понимать, что не всякое повышение цен служит показателем инфляции.

Определите, какие положения текста имеют

- 1) фактический характер
- 2) характер оценочных суждений
- 3) характер теоретических утверждений

Запишите в таблицу под буквой, обозначающей положение, цифру, выражающую его характер.

Раскройте смысл высказывания в форме мини-сочинения, обозначив при необходимости разные аспекты поставленной автором проблемы (затронутой темы). При изложении своих мыслей по поводу поднятой проблемы (обозначенной темы), при аргументации своей точки зрения используйте **знания**, полученные при изучении курса обществознания, соответствующие **понятия**, а также **факты** общественной жизни и собственный жизненный опыт. (В качестве фактической аргументации приведите не менее двух примеров из различных источников.)

Экономика	«Главная социальная ответственность бизнеса состоит в том, чтобы не содействовать росту нищеты и безработицы». (Б.С. Ерасов)
-----------	--

Экономические ресурсы, непосредственно задействованные в создании конкретного товара или услуги, называют

- 1) материальными потребностями
- 2) факторами производства
- 3) спросом и предложением
- 4) природными ресурсами

Существует несколько значений понятия «экономика». Какая позиция иллюстрирует экономику как науку?

- 1) расширение сети продуктовых магазинов
- 2) оказание населению услуг по ремонту бытовой техники
- 3) открытие детской спортивной школы в областном центре
- 4) анализ причин роста цен на молочную продукцию

Все экономические ресурсы, непосредственно задействованные в создании конкретного товара или услуги, называют

- 1) физическим капиталом
- 2) факторами производства
- 3) спросом и предложением
- 4) природными ресурсами

Для получения дохода гражданин сдал принадлежащий ему участок земли арендаторам. Доход гражданина –

- 1) дивиденд
- 2) прибыль
- 3) рента
- 4) добавленная стоимость

Верны ли следующие суждения о факторных доходах?

- А. Доход предпринимателя, вложившего средства в производство, называют рентой.
Б. Наёмный работник, распоряжаясь своим трудом, получает доход – заработную плату.

- 1) верно только А
- 2) верно только Б
- 3) верны оба суждения
- 4) оба суждения неверны

Фирма Y – салон красоты. Найдите в приведённом ниже списке примеры переменных издержек фирмы Y в краткосрочном периоде и запишите **цифры**, под которыми они указаны.

- 1) арендная плата за помещение салона
- 2) издержки на приобретение шампуней, красок для волос
- 3) издержки на уплату процентов по ранее взятому кредиту
- 4) оплата электроэнергии
- 5) издержки на выплату сдельной заработной платы работников
- 6) издержки на выплату окладов администрации

В ходе социологических опросов совершеннолетних граждан стран Z и Y им был задан вопрос: «Планируете ли Вы открыть (создать) собственный бизнес?». Результаты опросов (в % от числа отвечавших) приведены в диаграмме.



Найдите в приведённом списке выводы, которые можно сделать на основе диаграммы, и запишите **цифры**, под которыми они указаны.

- 1) Доля тех, кто планирует открыть (создать) собственный бизнес в ближайшие год-два, в стране Y выше, чем в стране Z.
- 2) Доля тех, кто не планирует открыть (создать) собственный бизнес, так как не видит перспектив его развития, в стране Z выше, чем в стране Y.
- 3) Среди опрошенных в стране Z тех, кому неинтересно открыть (создать) собственный бизнес, меньше, чем тех, кто планирует сделать это в ближайшие пять лет.
- 4) Среди опрошенных в стране Y тех, кто не планирует открыть (создать) собственный бизнес, больше, чем тех, кто планирует открыть (создать) его в ближайшие пять лет.
- 5) Доля тех, кто испытал затруднения при ответе на вопрос, в стране Z выше, чем в стране Y.

В 2004 и 2014 гг. в ходе социологических опросов совершеннолетних жителей страны Z им был задан вопрос: «Планируете ли Вы открыть (создать) собственный бизнес?». Результаты опросов (в % от числа отвечавших) приведены в диаграмме.



Найдите в приведённом списке выводы, которые можно сделать на основе диаграммы, и запишите **цифры**, под которыми они указаны.

- 1) В 2004 г. среди опрошенных тех, кому неинтересно открыть (создать) собственный бизнес, было больше, чем тех, кто планировал открыть его в ближайшие пять лет.
- 2) Доля тех, кто ответил, что не планировал открыть (создать) собственный бизнес, так как не видел перспектив его развития, за 10 лет сократилась.
- 3) Доля тех, кто ответил, что планировал открыть (создать) собственный бизнес в ближайшие год-два, за 10 лет увеличилась.
- 4) В 2014 г. среди опрошенных тех, кто не планирует заниматься собственным бизнесом, было больше, чем тех, кто планирует открыть (создать) его в ближайшие пять лет.
- 5) Доля тех, кто испытал затруднения при ответе на вопрос, осталась неизменной.

Вам поручено подготовить развёрнутый ответ по теме «Содержание и функции рыночной конкуренции». Составьте план, в соответствии с которым Вы будете освещать эту тему. План должен содержать не менее трёх пунктов, из которых два или более детализированы в подпунктах.

Что из перечисленного относится к факторам экстенсивного экономического роста?

- 1) повышение производительности труда, улучшение распределения ресурсов
- 2) повышение квалификации работников предприятия
- 3) освоение новых земель, рост добычи полезных ископаемых
- 4) сокращение штата сотрудников административного аппарата

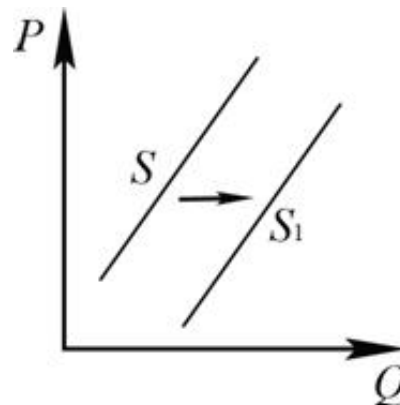
Вам поручено подготовить развёрнутый ответ по теме «Рынок и рыночный механизм». Составьте план, в соответствии с которым Вы будете освещать эту тему. План должен содержать не менее трёх пунктов, из которых два или более детализированы в подпунктах.

Верны ли следующие суждения о государственном бюджете?

- А. Государственным бюджетом называют главный финансовый план поступления и расходования денежных средств государства за год.
- Б. Государственный бюджет может быть профицитным.

- 1) верно только А
- 2) верно только Б
- 3) верны оба суждения
- 4) оба суждения неверны

На графике отражена ситуация на рынке мебели для дома: линия предложения S переместилась в новое положение – S_1 . (P – цена; Q – количество.)



Это перемещение может быть связано с (со)

- 1) увеличением количества производителей мебели
- 2) усложнением финансовой отчётности предприятия
- 3) снижением доходов потребителей
- 4) сокращением объёмов строительства доступного жилья

Раскройте смысл высказывания в форме мини-сочинения, обозначив при необходимости разные аспекты поставленной автором проблемы (затронутой темы). При изложении своих мыслей по поводу поднятой проблемы (обозначенной темы), при аргументации своей точки зрения используйте **знания**, полученные при изучении курса обществознания, соответствующие **понятия**, а также **факты** общественной жизни и собственный жизненный опыт. (В качестве фактической аргументации приведите не менее двух примеров из различных источников.)

Экономика	«Благосостояние государства обеспечивают не те деньги, которые оно ежегодно отпускает чиновникам, а те, которые оно ежегодно оставляет в карманах граждан». (И. Этвеш)
-----------	--

Центральный банк

- 1) привлекает на депозиты сбережения домохозяйств
- 2) осуществляет денежную эмиссию
- 3) выдаёт потребительские кредиты
- 4) финансирует коммерческие фирмы

Верны ли следующие суждения об издержках фирмы?

А. Заработная плата работников относится к издержкам фирмы.

Б. Издержки фирмы влияют на цену производимых ею товаров и услуг.

- 1) верно только А
- 2) верно только Б
- 3) верны оба суждения
- 4) оба суждения неверны

Банк Z расположен в деловом районе столицы государства. По каким признакам можно установить, что Z – центральный банк? Запишите **цифры**, под которыми указаны эти признаки.

- 1) Банк осуществляет эмиссию денег.
- 2) Банк осуществляет кредитование физических лиц.
- 3) Банк привлекает на депозиты средства граждан и фирм.
- 4) Банк лицензирует деятельность финансовых организаций.
- 5) Банк устанавливает учётную ставку процента.
- 6) Банк обслуживает расчёты фирм.

Верны ли следующие суждения о постоянных издержках фирмы в краткосрочном периоде?

А. Постоянные издержки зависят от объёма произведённой фирмой продукции.

Б. К постоянным издержкам фирмы относят страховые взносы, арендную плату, оплату охраны помещения.

- 1) верно только А
- 2) верно только Б
- 3) верны оба суждения
- 4) оба суждения неверны

Прочитайте приведённый ниже текст, каждое положение которого обозначено определённой буквой.

(А) Показатели номинального и реального доходов семьи отражают влияние инфляции на благосостояние членов общества. (Б) Эксперты отметили особенности влияния инфляции на семьи с фиксированными доходами. (В) Фиксированные доходы являются существенным недостатком оплаты труда в бюджетной сфере. (Г) Однако независимость денежного вознаграждения от многих внешних факторов является важным преимуществом такой оплаты труда. (Д) По данным ряда исследований, число занятых в бюджетной сфере в последние годы возросло.

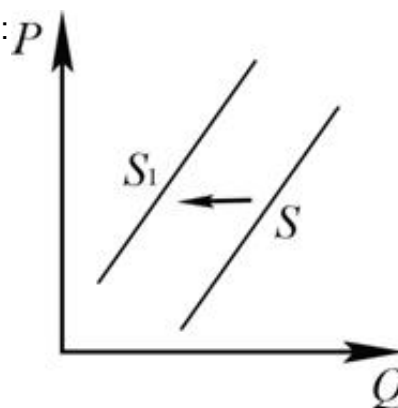
Определите, какие положения текста имеют

- 1) фактический характер
- 2) характер оценочных суждений
- 3) характер теоретических утверждений

Запишите в таблицу под буквой, обозначающей положение, цифру, выражающую его характер.

На графике отражена ситуация на рынке услуг быстрого питания: линия предложения S переместилась в новое положение – S_1 .

(P – цена;
 Q – количество.)



Это перемещение может быть связано с (со)

- 1) увеличением государственной поддержки малого бизнеса
- 2) снижением арендной платы с предприятий
- 3) ужесточением санитарного контроля над предприятиями питания
- 4) упрощением финансовой отчётности предприятий

Верны ли следующие суждения о налогах?

- А. Косвенные налоги выплачивают только отдельные юридические лица.
 Б. Прямые налоги взимаются с доходов, собственности и определённых видов деятельности граждан и фирм.

- 1) верно только А
- 2) верно только Б
- 3) верны оба суждения
- 4) оба суждения неверны

Запишите слово, пропущенное в таблице.

Факторы производства

ФАКТОРЫ ПРОИЗВОДСТВА	ХАРАКТЕРИСТИКА
...	Сумма материальных и денежных средств, используемых для производства экономических благ
Земля	Все виды природных ресурсов, имеющих на планете и пригодных для производства экономических благ

Прочитайте приведённый ниже текст, каждое положение которого обозначено определённой буквой.

(А) Степень вмешательства государства в экономику – один из критериев различия типов экономических систем. (Б) Экономическая система – форма организации общественного производства. (В) Установление государством цен на товары и услуги сохранилось и в настоящее время в некоторых странах. (Г) В этих странах работники предприятий получают почти одинаковую зарплату. (Д) К сожалению, такая система не способна обеспечить развитие личной инициативы.

Определите, какие положения текста имеют

- 1) фактический характер
- 2) характер оценочных суждений
- 3) характер теоретических утверждений

Запишите в таблицу под буквой, обозначающей положение, цифру, выражающую его характер.

В период экономического кризиса ряд предприятий обанкротились, некоторые вынуждены были сократить производство. К какому типу относится появившаяся вследствие этого безработица?

- 1) сезонная
- 2) фрикционная
- 3) структурная
- 4) циклическая

Раскройте смысл высказывания в форме мини-сочинения, обозначив при необходимости разные аспекты поставленной автором проблемы (затронутой темы). При изложении своих мыслей по поводу поднятой проблемы (обозначенной темы), при аргументации своей точки зрения используйте **знания**, полученные при изучении курса обществознания, соответствующие **понятия**, а также **факты** общественной жизни и собственный жизненный опыт. (В качестве фактической аргументации приведите не менее двух примеров из различных источников.)

Экономика	«Предпринимательская деятельность служит интересам не только индивидуума, но и общества в целом». (С.Н. Канарейкин)
-----------	---

Раскройте смысл высказывания в форме мини-сочинения, обозначив при необходимости разные аспекты поставленной автором проблемы (затронутой темы). При изложении своих мыслей по поводу поднятой проблемы (обозначенной темы), при аргументации своей точки зрения используйте **знания**, полученные при изучении курса обществознания, соответствующие **понятия**, а также **факты** общественной жизни и собственный жизненный опыт. (В качестве фактической аргументации приведите не менее двух примеров из различных источников.)

Экономика	«Богатство – это сбережения многих в руках одного». (Ю. Тувим)
-----------	--

Государство в рыночной экономике

- 1) обеспечивает правовую базу предпринимательской деятельности
- 2) устанавливает государственный заказ всем предприятиям
- 3) устанавливает цены потребительских товаров и услуг
- 4) распределяет основные факторы производства

Какой смысл обществоведы вкладывают в понятие «факторы производства»? Привлекая

знания обществоведческого курса, составьте два предложения: одно предложение, содержащее информацию об основных факторах производства, и одно предложение, раскрывающее ограниченность любого фактора производства.

Вам поручено подготовить развёрнутый ответ по теме «Ценообразование в условиях рынка». Составьте план, в соответствии с которым Вы будете освещать эту тему. План должен содержать не менее трёх пунктов, из которых два или более детализированы в подпунктах.

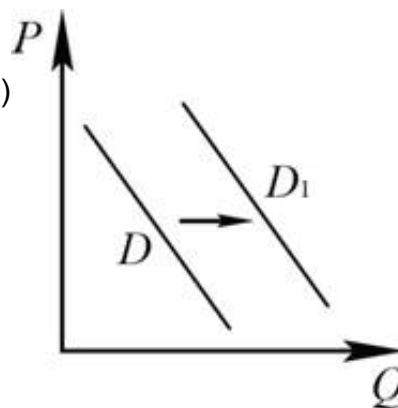
Что из перечисленного относится к источникам финансирования бизнеса?

- 1) налоговые отчисления
- 2) привлечение инвестиций
- 3) маркетинговое исследование
- 4) оптимизация рабочего места

Фирма «Лисичка» – ателье, специализирующееся на пошиве школьной формы. Найдите в приведённом ниже списке примеры постоянных издержек фирмы «Лисичка» в краткосрочном периоде и запишите **цифры**, под которыми они указаны.

- 1) арендная плата за помещение ателье
- 2) издержки на приобретение тканей, ниток, фурнитуры
- 3) страховые взносы
- 4) издержки на погашение процентов по ранее взятому кредиту
- 5) оплата электроэнергии
- 6) издержки на выплату сдельной заработной платы работникам

На графике отражена ситуация на рынке туристических услуг на зарубежных направлениях: линия спроса D переместилась в новое положение – D_1 . (P – цена услуг; Q – объём спроса услуг.)



Это перемещение может быть связано со (с)

- 1) снижением доходов потребителей
- 2) общим подорожанием отдыха на популярных курортах
- 3) наступлением сезона отпусков
- 4) повышением качества сервиса на отечественных курортах

Ниже приведён перечень функций, выполняемых банками. Все они, за исключением двух, относятся к сфере деятельности коммерческих банков.

- 1) хранение золотовалютного резерва государства;
- 2) покупка и продажа валюты;
- 3) продажа дорожных чеков;
- 4) обслуживание счетов фирм;
- 5) осуществление монопольной эмиссии денег;
- 6) открытие и обслуживание депозитов граждан.

Найдите две функции, «выпадающие» из общего ряда, и запишите в таблицу цифры, под которыми они указаны.

Ответ:

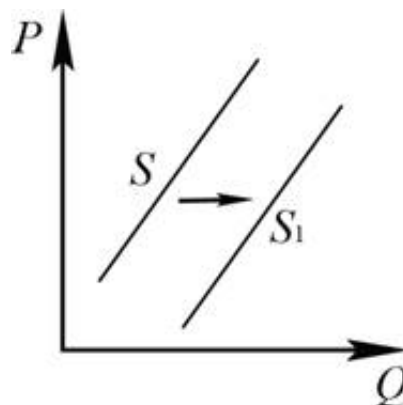
Нина Васильевна вложила свои сбережения в развитие широко разрекламированной фирмы. В обмен она приобрела ценную бумагу, по которой планирует получать дивиденды. Как называется такая ценная бумага?

- 1) облигация 2) вексель 3) акция 4) ваучер

Какое из общественных благ (услуг) в рыночной экономике производит только государство?

- 1) оказание медицинских услуг
2) обеспечение обороноспособности страны
3) страхование имущества
4) проведение маркетинговых исследований

На графике отражено изменение предложения на рынке свежих огурцов и помидоров: линия предложения S переместилась в новое положение – S_1 . (P – цена товара; Q – количество товара.)



Это перемещение может быть связано с (со)

- 1) ростом таможенных пошлин на импортные огурцы и помидоры
2) высоким урожаем огурцов и помидоров
3) повышением тарифов на грузовые перевозки
4) снижением доходов потребителей

Создание новых государственных учебных заведений иллюстрирует выполнение государством функции

- 1) правового регулирования трудовых отношений
2) поддержания общественного порядка
3) организации производства общественных благ
4) формирования доходной части государственного бюджета

Установите соответствие между примерами и факторами экономического роста, которые они иллюстрируют: к каждой позиции, данной в первом столбце, подберите соответствующую позицию из второго столбца.

ПРИМЕРЫ

- А) увеличение посевных площадей
- Б) использование современных агротехнологий
- В) переобучение работников фермерского хозяйства
- Г) строительство дополнительных предприятий
- Д) увеличение численности обслуживающего персонала

ФАКТОРЫ ЭКОНОМИЧЕСКОГО РОСТА

- 1) экстенсивные
- 2) интенсивные

Запишите в таблицу выбранные цифры под соответствующими буквами.

Верны ли следующие суждения об инфляции?

А. Инфляцией называют процесс повышения общего уровня цен в стране.

Б. В период высокой инфляции существенно понижается покупательная способность денег.

- 1) верно только А
- 2) верно только Б
- 3) верны оба суждения
- 4) оба суждения неверны

Что из перечисленного отличает рыночную экономическую систему от командной?

- 1) удовлетворение материальных потребностей людей
- 2) необходимость решать проблему ограниченности ресурсов
- 3) дефицит государственного бюджета
- 4) свобода субъектов экономической деятельности

Вам поручено подготовить развёрнутый ответ по теме «Конкуренция в рыночной экономике». Составьте план, в соответствии с которым Вы будете освещать эту тему. План должен содержать не менее трёх пунктов, из которых два или более детализированы в подпунктах.

Государство в условиях рыночной экономики

- 1) предоставляет общественные блага
- 2) устанавливает цены на все товары и услуги
- 3) определяет место работы специалистов высокой квалификации
- 4) осуществляет директивное планирование производства

Отличительным признаком рыночной экономики является

- 1) законодательная защита государственной собственности
- 2) дефицит государственного бюджета
- 3) массовое производство товаров
- 4) свобода предпринимательства

Раскройте смысл высказывания в форме мини-сочинения, обозначив при необходимости разные аспекты поставленной автором проблемы (затронутой темы). При изложении своих мыслей по поводу поднятой проблемы (обозначенной темы), при аргументации своей точки зрения используйте **знания**, полученные при изучении курса обществознания, соответствующие **понятия**, а также **факты** общественной жизни и собственный жизненный опыт. (В качестве фактической аргументации приведите не менее двух примеров из различных источников.)

Экономика	«Реклама – ценный экономический фактор, потому что это самый дешёвый способ продажи товаров, особенно когда последние бесполезны». (С. Левис)
-----------	---

Прочитайте приведённый ниже текст, в котором пропущен ряд слов (словосочетаний).

Выберите из предлагаемого списка слова (словосочетания), которые необходимо вставить на место пропусков.

«Школа отличается от других институтов современного образования многообразием подготовки учащихся, а также особыми _____ (А), используемыми в процессе занятий. Выполняя «заказ» общества, школа наряду с другими образовательными организациями осуществляет _____ (Б) индивидов. В настоящее время образовательная политика в РФ строится на следующих принципах: гуманистический характер образования; приоритет _____ (В); право личности на _____ (Г); внимание системы образования к потребностям обучаемых и др.

Развитие науки и связанных с ней технологий производства поставили на повестку дня вопрос о реформировании как структуры, так и _____ (Д) образования. По-иному подходят к выработке критериев оценки _____ (Е) образования: это не только полученные обучаемым знания, но и уровень творческого и нравственного развития его личности».

Слова (словосочетания) в списке даны в именительном падеже. Каждое слово (словосочетание) может быть использовано только **один** раз.

Выбирайте последовательно одно слово (словосочетание) за другим, мысленно заполняя каждый пропуск. Обратите внимание на то, что слов (словосочетаний) в списке больше, чем Вам потребуется для заполнения пропусков.

Список терминов:

- 1) свободное развитие
- 2) содержание
- 3) общечеловеческие ценности
- 4) производительность
- 5) официальная идеология
- 6) технология
- 7) эффективность
- 8) социализация
- 9) субъекты деятельности

В данной ниже таблице приведены буквы, обозначающие пропущенные слова (словосочетания). Запишите в таблицу под каждой буквой номер выбранного Вами слова (словосочетания).

Раскройте смысл высказывания в форме мини-сочинения, обозначив при необходимости разные аспекты поставленной автором проблемы (затронутой темы). При изложении своих мыслей по поводу поднятой проблемы (обозначенной темы), при аргументации своей точки зрения используйте **знания**, полученные при изучении курса обществознания, соответствующие **понятия**, а также **факты** общественной жизни и собственный жизненный опыт. (В качестве фактической аргументации приведите не менее двух примеров из различных источников.)

Экономика	«Товар может быть олицетворением инженерной мечты и кошмаром для сбыта одновременно». (Д. Хьюджес)
-----------	--

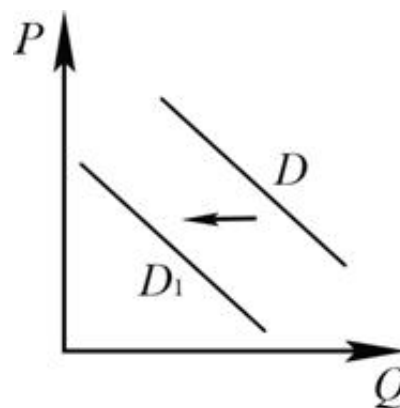
Ниже приведён перечень примеров. Все они, за исключением двух, являются переменными издержками в краткосрочном периоде.

1) плата за сырьё; 2) оклады администрации; 3) проценты за кредит банку; 4) плата за электроэнергию; 5) оплата транспортных услуг; 6) сдельная зарплата рабочих.

Найдите два примера, «выпадающих» из общего ряда, и запишите в таблицу цифры, под которыми они указаны.

Ответ:

На графике отражена ситуация на рынке овощей и фруктов. Проанализируйте изменение спроса: линия спроса D переместилась в новое положение – D_1 . (P – цена; Q – количество.)



Чем может объясняться подобное изменение?

- 1) Ведётся активная пропаганда здорового питания.
- 2) Существенно снижаются доходы населения.
- 3) Производители понижают цену на продукцию.
- 4) Компании-производители конкурируют между собой.

Раскройте смысл высказывания в форме мини-сочинения, обозначив при необходимости разные аспекты поставленной автором проблемы (затронутой темы). При изложении своих мыслей по поводу поднятой проблемы (обозначенной темы), при аргументации своей точки зрения используйте **знания**, полученные при изучении курса обществознания, соответствующие **понятия**, а также **факты** общественной жизни и собственный жизненный опыт. (В качестве фактической аргументации приведите не менее двух примеров из различных источников.)

Экономика	«Ключевая концепция нынешнего десятилетия – скорость. Здесь и скорость изменения характера бизнеса, и динамика
-----------	--

Экономика страны Z основана на крупном машинном производстве, в ней доминирует тяжёлая промышленность. Какие иные признаки подтверждают наличие в стране Z рыночной экономики? Запишите **цифры**, под которыми они указаны.

- 1) конкуренция производителей
- 2) свободное ценообразование
- 3) гарантия свободы частной хозяйственной инициативы
- 4) необходимость решать проблему ограниченности ресурсов
- 5) директивное распределение производственных ресурсов
- 6) стабильность доходов населения

В структуре экономики страны Z в равной мере представлены промышленность и сельское хозяйство. Какие признаки позволяют сделать вывод о том, что в стране Z командная (плановая) экономика? Запишите **цифры**, под которыми они указаны.

- 1) преобладание интенсивных факторов экономического роста
- 2) директивное ценообразование
- 3) государственная собственность на большинство средств производства
- 4) развитая инфраструктура
- 5) необходимость решать проблему ограниченности ресурсов
- 6) централизованное управление экономикой

Рынок мобильной связи области Z контролируется одной крупной компанией, другие производители не представлены. Выберите из приведённого ниже списка характеристики данного рынка и запишите **цифры**, под которыми они указаны.

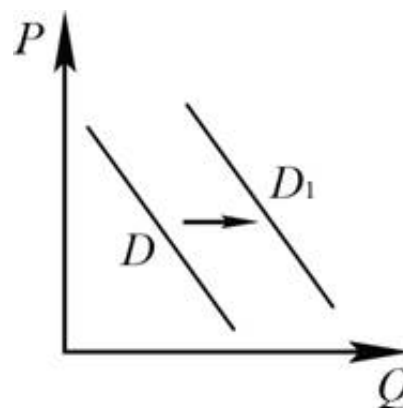
- 1) рынок средств производства
- 2) совершенная (чистая) конкуренция
- 3) региональный рынок
- 4) рынок услуг
- 5) монополия
- 6) рыночный дефицит

Запишите слово, пропущенное в таблице.

Факторы производства

ВИДЫ ФАКТОРОВ	ХАРАКТЕРИСТИКИ
...	Сведения, необходимые людям для успешной и самостоятельной экономической деятельности
Предпринимательство (предпринимательские способности)	Способность людей к созданию новых коммерческих организаций для производства и распределения жизненных благ

На графике отражено изменение спроса на детские игрушки: линия спроса D переместилась в новое положение – D_1 . (P – цена услуг; Q – количество услуг.)



Это перемещение может быть связано с

- 1) ростом рождаемости
- 2) повышением налогов с производителей детских товаров
- 3) резким ростом инфляции
- 4) увеличением производства печатной продукции для детей

С возникновением «класса интеллектуалов» движителем социального прогресса становятся нематериалистические цели, и та часть социума, которая не способна их усвоить, объективно теряет свою значимость в общественной жизни более, нежели любой иной класс в аграрном или индустриальном обществах. Интеллектуальное расслоение, достигающее сегодня беспрецедентных масштабов, постепенно становится основой всякого иного социального расслоения...

Развитие современной экономики, основанной на производстве и использовании знаний, предполагает формирование нового принципа социальной стратификации, гораздо более жесткого по сравнению со всеми, известными истории. В аграрных обществах власть феодалу над крестьянами давало право рождения, в обществе индустриальном могущество капиталиста основывалось на праве собственности, а влияние государственного служащего определялось его местом в политической системе; все эти статусные факторы не были обусловлены естественными и неустранимыми качествами людей – любой член общества, оказавшись на месте представителей господствующего класса, мог бы с большим или меньшим успехом выполнять соответствующие социальные функции...

В современных же условиях не социальный статус служит условием принадлежности человека к элите постиндустриального общества; напротив, сам он формирует в себе качества, делающие его представителем высшей социальной страты. Широко распространено мнение о том, что информация есть наиболее демократичный источник власти, ибо все имеют к ней доступ, а монополия на нее невозможна; однако важно и то, что информация является и наименее демократичным фактором производства, так как доступ к ней отнюдь не означает обладания ею ...

(В.Л. Иноземцев)

Опираясь на текст и знание обществоведческого курса, поясните значение терминов «социальная стратификация», «элита», «постиндустриальное общество».

Автор называет информацию фактором производства. Привлекая знания обществоведческого курса, назовите четыре других фактора производства.

Как автор оценивает новый принцип социальной стратификации? Приведите два авторских обоснования этой оценки.

Какие изменения, по мнению автора, произошли в обществе с возникновением «класса интеллектуалов»? Назовите любые два изменения.

«Нет и не может быть эффективной... социально ориентированной рыночной экономики без активной регулирующей роли государства.

<...> За государством всегда сохраняются классические функции, такие, как: защита прав собственности; обеспечение свободы предпринимательства, обеспечение законности и правопорядка в хозяйственной сфере; регулирование денежного обращения, обеспечение устойчивости национальной валюты; регулирование взаимоотношений между трудом и капиталом, обеспечение экономической безопасности страны и т.д. Ни одна из этих функций не исчезает и не утрачивает своей роли.

<...> С развитием общества... происходят развитие, обогащение, уточнение функций государства. Данный процесс идет по следующим направлениям: последовательный переход от прямых к косвенным методам регулирования экономики; резкое усиление социальных функций государства, его роли в регулировании социальных процессов, начиная с установления минимальных ставок оплаты труда, определение прожиточного минимума, уменьшение неоправданной дифференциации доходов населения, обеспечение стабильности в обществе.

В последнее время возникли и качественно новые функции государства. <...> Принятие на себя государством обязательств в области образования, формирование и поддержки фундаментальной науки, решение экологических вопросов.

<...> О каких же задачах государства идет речь на этапе становления рыночной экономики? <...> Это прежде всего формирование новой системы отношений собственности. <...> Становление малого предпринимательства. <...> Формирование основных элементов рыночной экономики, включая финансовый и фондовый рынки, институты регулирования рынка труда и занятости, инфраструктуру рыночной экономики в целом».

(Абалкин А.И.)

К одной из функций государства автор относит обеспечение свободы предпринимательства. Опираясь на обществоведческое знание, назовите любые три условия, без которых свобода предпринимательства невозможна.

В каких двух направлениях, по мнению автора, происходит развитие функций современного государства в экономике?

Какие три новые функции современного государства в экономике отмечает автор?

Автор пишет о регулирующей роли государства в экономике. Назовите другой регулятор хозяйственной деятельности в той экономической системе, о которой говорится в тексте. Укажите любые две его регулирующие функции.

Мы ставим перед собой самые серьезные задачи: к 2020 году войти в пятерку крупнейших экономик мира. Мы способны эту задачу решить. Но это ведь не самоцель – войти в эту пятёрку; мы с вами понимаем, что от объёма экономики будут зависеть возможности государства по решению социальных вопросов. Это значит: чтобы обеспечить такое динамичное, опережающее движение России вперёд, уже сейчас нужно активно переходить к качественно новой социальной политике – политике социального развития.

Её содержание гораздо шире, чем просто выплата пособий и финансирование

социальных учреждений. Речь идет о формировании современной социальной среды вокруг человека, работающей на улучшение его здоровья, образования, жилья, условий труда, повышение конкурентоспособности и доходов, в конечном счёте, – на развитие российского народа. Не просто на сбережение, а на развитие российского народа.

<...> основа социальной политики – это адекватный уровень доходов людей. Уже в ближайшие годы мы должны поднять средний размер пенсии выше прожиточного минимума и довести уровень оплаты труда в социальной сфере до среднего уровня зарплат в каждом из регионов страны. Конечно, следует развивать и действенную поддержку семьи, материнства и детства <...>

В ближайшее время нам необходимо детально заняться обновлением системы социальных обязательств для полноценной реализации принципов доступности и качества социальных услуг. Эту работу нужно вести в постоянном диалоге с гражданским обществом, бизнесом, профессиональными сообществами <...>

Нужно, наконец, избавиться от стереотипа, что «социалка» – это исключительно вотчина государства: уже есть примеры, когда частный бизнес работает в социальных сферах – и с более высоким качеством, и одновременно с меньшими затратами.

В конечном счете, неважно, где оказывается услуга: в государственном, частном или муниципальном учреждении, – главное, чтобы человек мог выбрать устраивающий его вариант. А государство должно оплатить предоставленные услуги в объёме, определённом государственными гарантиями <...>

<...> социальная сфера должна стать полем для заинтересованного партнёрства государства, бизнеса, общественных структур в реализации их совместных программ.

(В.В. Путин)

Как вы понимаете использованное В.В. Путиным выражение «система социальных обязательств»? В чем, по мнению автора, заключается ее обновление в современных условиях? Как в этом обновлении могут участвовать организации гражданского общества?

В.В. Путин предлагает принять меры для того, чтобы обеспечить адекватный уровень доходов людей. Положение каких категорий населения, в первую очередь, призваны улучшить эти меры? (Назовите три таких категории населения). Почему именно этим категориям населения нужна государственная поддержка?

В тексте раскрыто значение термина «политика социального развития» в узком и широком смысле. Приведите их, обязательно отметив, какое значение соответствует узкому смыслу, а какое – широкому.

Как задача вхождения России в пятерку крупнейших экономик мира связана с социальной политикой государства? Какая задача непосредственно вытекает из этой связи?

Выбор модели развития России и кризис 1998 г.

Направление реформ шло по пути чистого, а порой и «дикого» капитализма. Государство фактически самоустранилось от регулирования экономики, а стихийные механизмы, обеспечивающие права человека в развитых странах, еще не окрепли. Выделим основные слагаемые развития страны.

1) С начала 1990-х годов наблюдалось резкое падение производства в реальном секторе экономики — промышленности, строительстве, сельском хозяйстве, на транспорте.

2) Плохо подготовленное открытие внутреннего рынка навстречу мировому привело к зависимости России от импорта продовольствия, потребительских и многих инвестиционных товаров. Возникла и чрезмерная зависимость страны от доходов от экспорта сырья (особенно нефти и газа), а, следовательно, и от цен мирового рынка.

3) Тяжелое положение в экономике вызвало уменьшение поступления налогов в государственную казну, что привело страну к бюджетному кризису. Иссякли источники финансирования пенсий, зарплаты работников бюджетной сферы, расходов на оборону, образование и здравоохранение.

4) Опасения вызвать инфляцию не позволили финансировать государственные расходы и за счет эмиссии денег. Правда, некоторое время государству удавалось решать свои

финансовые проблемы за счет огромных займов.

5) На этой основе сложилось обособленное, искусственное процветание финансово-банковского сектора за счет завышенных ставок процента по государственным займам и спекулятивной игры на валютных рынках.

В итоге заложенные в избранной модели реформ противоречия с полной силой проявились к середине 1998 г.

Таким образом, эпоха развития по пути чистого капитализма завершилась тупиком, поставившим страну на грань новых социальных потрясений. Только в ходе тяжелого социально-экономического кризиса 1998 г. в России начался официальный процесс смены модели реформирования. Речь идет о повороте к созданию «смешанной» рыночной экономики.

(Н.Н. Думная)

При выборе модели развития России высказываются разные точки зрения. Какая модель является более предпочтительной по мнению автора? По какому авторскому суждению вы это определили? Разделяете ли вы мнение автора? Свой ответ обоснуйте.

Какие признаки кризиса 1998 года названы в тексте? (Укажите любые три из них).

Автор документа подчеркивает, что в начале реформ государство фактически самоустранилось от регулирования экономики. Опираясь на знания экономического курса, назовите любые три экономические задачи, которые призвано решать государство в смешанной экономике рыночного типа.

Назовите две модели реформирования экономики, упомянутые в тексте. По какой из них реформировалась российская экономика до 1998 года?

Наборы задач, решаемых правительствами при регулировании экономики, определяются как общими закономерностями функционирования современных рыночных систем, так и конкретными потребностями, условиями определенной страны. Применительно к современной России можно выделить три крупные обобщенные задачи... Во-первых, обеспечение устойчивости экономического роста, служащего повышению благосостояния и социальному развитию нации. Во-вторых, осуществление эффективного преобразования экономической системы страны с целью повышения результативности и гибкости ее институтов. В-третьих, защита национальных интересов во внешнеэкономических отношениях.

Первая из этих задач решается в основном усилиями предприятий, фирм, корпораций... Для достижения устойчивого и социально ориентированного экономического роста нужна целостная экономическая политика общенационального масштаба... Предполагается также реализация государственного заказа и национальных инвестиционных программ по особо значимым для общества направлениям. Сегодня экономическая политика в стране, равнозначной России, непременно должна быть инновационно ориентированной. Это требует особых мер со стороны государства по поддержке науки, образования и инновационного предпринимательства.

Вторая задача – трансформация экономической системы страны... имея в виду создание современной и высокоэффективной рыночной экономики, предполагает широкий круг реформационных действий, которые характеризуются сложными параметрами и требуют особого контроля со стороны государства. Решающее значение в этом блоке задач имеет формирование необходимых для высокоэффективной экономики рыночных институтов, преобразование и совершенствование системы государственного управления.

Третья задача – внешнеэкономическая. Она связана с поддержкой государством самостоятельности и идентичности экономической системы страны в отношениях с внешним миром. Известно, что современные международные экономические отношения пронизаны духом глобализма. Национальные экономические интересы могут оттесняться на второй и даже третий план под мощным давлением интересов транснационального капитала. Но ТНК и международный капитал по-своему тоже национальны. Они выражают приоритеты страны своего базирования или интегральные интересы группы стран. И обычно это наиболее развитые страны мира. Поэтому задача отстаивать во внешнеэкономических отношениях

национальные интересы страны не утратила своего значения. Она стала более многогранной и сложной.

(В.И. Кушлин и др.)

Назовите два фактора, которые, по мнению авторов, определяют задачи правительства при регулировании экономики. Какие три задачи регулирования экономики современной России авторы считают актуальными?

Почему, по мнению авторов, задача отстаивания национальных интересов во внешнеэкономических отношениях сохраняет свое значение в современных условиях? Используя содержание текста, дайте два объяснения.

Используя содержание текста и обществоведческие знания, приведите три объяснения связи экономического роста и социального развития страны.

Какое направление экономической политики в стране, равнозначной России, авторы считают необходимым? В чем сущность этого направления политики? Используя содержание текста, обществоведческие знания и факты общественной жизни, дайте два объяснения перспективности этого направления экономической политики.

Изучение взаимодействия спроса и предложения, конкуренции как основных инструментов ценообразования позволяет вести результативный поиск элементов эффективного механизма рыночной саморегуляции...

В условиях рыночной экономики цена выполняет ряд важных функций.

Цены передают информацию... Система цен автоматически распространяет информацию для всех участников рынка об устойчивом росте или снижении спроса на тот или иной вид товара. Это побуждает их наращивать или, наоборот, сокращать объём производства до тех пор, пока вновь рост или падение цен не пошлют сигналы о дефиците или перепроизводстве товарной продукции.

В современных условиях в развитых странах Запада действие ценовой системы значительно упрощено благодаря функционированию высокоорганизованных рынков, обладающих развитой инфраструктурой. Вместе с тем, ценовая система усложнена благодаря искажениям ценовой информации, что объясняется рядом причин. Прежде всего, стоит отметить вмешательство государства в экономические процессы. Негативную роль играет деятельность монополий, стремящихся к извлечению максимально высокой прибыли, в том числе путём взвинчивания цен. Искажающим фактором является также инфляция, особенно если она имеет высокий уровень и неустойчивый характер.

Цены выполняют важную стимулирующую функцию. Каждое предприятие стремится снизить издержки производства, справедливо усматривая в этом один из проверенных временем рычагов роста прибыли. В этих целях используются достижения научно-технического прогресса, инновационные и конкурентоспособные технологии, ноу-хау, всевозможные виды менеджмента и др. Себестоимость продукции, трудоёмкость её выпуска являются основой формирования рыночных цен. Каждое предприятие располагает на этом пути своими возможностями и резервами, используя их для достижения поставленной цели. Тем самым цена стимулирует внедрение достижений научно-технического прогресса, способствует снижению издержек производства и повышению качества продукции.

Цены участвуют в регулировании производства товаров и услуг, а также влияют на распределение доходов, на изменение структуры их использования. Эта функция вне государственного воздействия носит стихийный характер. Рост цен, например, способствует увеличению производства товаров, но до известных пределов, так как высокие цены ограничивают спрос.

(В. И. Кушлин)

Какие три причины, по мнению автора, обуславливают искажение ценовой информации?

Известно, что в условиях рынка цены устанавливаются под влиянием спроса и предложения. Однако, по мнению ряда экономистов, и в этих условиях государство не должно утрачивать контроль над ценами на товары и услуги. Используя содержание текста и обществоведческие знания, выскажите три предположения о возможных формах и проявлениях подобного контроля.

Какие два основных инструмента рыночного ценообразования названы в тексте? В чём состоит значение информации, распространяемой системой цен?

Какие три функции цен в условиях рынка рассмотрены в тексте? Назовите их и проиллюстрируйте каждую конкретным примером.

Рыночная система хозяйствования, как и любая иная экономическая система, имеет свои достоинства и недостатки... Как правило, к основным достоинствам рыночной экономики относят, прежде всего, её чрезвычайную динамичность и способность к саморегулированию. Благодаря этому она восприимчива к нововведениям и способна обеспечивать быстрый и эффективный экономический рост, в т.ч. путём предпринимательской активности населения. Рыночное хозяйство отличается также высокой способностью к эффективному распределению ресурсов, к быстрой разработке и широкому внедрению конкурентоспособных производственных технологий. Наконец, следует отметить его живучесть и приспособляемость.

К числу недостатков рыночной экономики многие исследователи относят постепенное ослабление и даже сознательную ликвидацию основного элемента рыночной системы хозяйствования – конкуренции... Другой крупный недостаток рыночного механизма хозяйствования состоит в том, что он не обеспечивает полной занятости населения и стабильного уровня цен...

Нельзя не сказать и об инфляционных процессах, часто проявляющихся в рыночной экономике. Здесь следует принимать во внимание, что инфляционный рост цен оказывает на хозяйственную жизнь ярко выраженное дестабилизирующее воздействие. Оно состоит в том, что денежные агрегаты начинают быстро обесцениваться по отношению к реальным активам...

Несомненным недостатком рыночного хозяйства является то, что оно не создает материальных стимулов для производства тех товаров и услуг, которые относятся к т.н. общественным благам. Оно само по себе не решает ряд важнейших социальных проблем. Среди них организация общедоступного здравоохранения, бесплатного образования, поддержка слабо защищённых слоёв населения, развитие культуры, обеспечение охраны общественного порядка, национальной обороны и т.п. Рыночный механизм хозяйствования не способен учитывать эти потребности общества. Поэтому государство вынуждено обеспечивать производство общественных благ и оказание услуг, проводя соответствующую налоговую политику.

Рыночной экономике присуща высокая дифференциация в доходах населения.

(В.И. Кушлин и др.)

Как налоговая политика государства связана с производством общественных благ и решением социальных проблем общества? Используя текст и обществоведческие знания, дайте три объяснения этой связи.

Какие достоинства рыночной экономики отметили авторы? Укажите любые три достоинства.

Объясните связь безработицы и рыночной экономики. Проиллюстрируйте двумя примерами меры государственной политики по сокращению безработицы.

Какие недостатки рыночной экономики рассмотрели авторы? Укажите любые пять недостатков.

Главной движущей силой капиталистической экономики является личный интерес: каждая экономическая единица стремится делать то, что выгоднее всего ей самой. Предприниматели ставят своей целью максимизацию прибыли своих фирм или – как варианта – минимизацию своих убытков. А владельцы материальных ресурсов (собственности) пытаются продать или сдать в аренду эти ресурсы по возможно более высоким ценам. Рабочие также стремятся получить возможно больший доход (удовлетворение) и ищут такую работу, где сочетание заработной платы, социальных благ и условий труда были бы для них наиболее подходящими. В свою очередь потребители, покупая определённый продукт, стараются приобрести его по самой низкой цене. Потребители, кроме того, стремятся сократить расходы и максимизировать полезность продукта. Короче говоря, капитализм предполагает, что личный интерес формирует фундаментальный образ действий различных экономических единиц, когда они реализуют свой свободный выбор. Мотив личного интереса придаёт направление и упорядоченность функционированию экономики, которая без такого интереса оказалась бы чрезвычайно хаотичной...

Просто поразительно, какие грандиозные масштабы приняла в обществе специализация. Подавляющее большинство потребителей сами не производят практически никаких товаров и услуг, которые они потребляют, и, напротив, потребляют очень мало или вовсе ничего из того, что они производят... Рабочий на сборочном конвейере, который по 8 часов в день устанавливает стёкла на «Форды», сам может владеть автомобилем «Хонда». Редко какие домохозяйства всерьёз налаживают собственное производство необходимых им пищи, жилья или одежды. Многие фермеры продают молоко со своей фермы местному молочному заводу, а сами покупают масло в местном супермаркете. Общество уже давно усвоило, что самообеспечение порождает неэффективность. «На все руки мастер» может быть весьма яркой личностью, но уж высокой производительностью труда он наверняка не отличается.

(К. Макконнелл, С. Брю)

Используя текст и обществоведческие знания, дайте три объяснения связи личного интереса и экономической специализации.

Что такое специализация? Используя текст и обществоведческие знания, приведите три пояснения мысли авторов о неэффективности самообеспечения.

Что авторы называют личным интересом? Как они определяют личные интересы владельцев различных факторов производства?

Как авторы характеризуют роль личного интереса в рыночной экономике? Используя текст, приведите две характеристики.

Рыночная экономика – это социальная система разделения труда и частной собственности на средства производства. Каждый действует на свой страх и риск, но, действуя, всякий человек имеет в виду скорее потребности других, чем свои собственные. В предпринимательстве человек нуждается в окружении сограждан...

Эта система отшлифована рынком. Рынок направляет активность людей в такое русло, где они лучше всего соответствуют потребностям окружающих. Рынок работает без принудительных мер. Государство, карательный аппарат не вмешиваются в рынок и систему гражданских отношений, управляемых рынком. Только в случае необходимости предотвращения деструктивных явлений оправдано применение силовых санкций, цель которых – регулярное функционирование рыночной экономики. Поддержание жизни, здоровья и собственности против насилия, агрессии, надувательства со стороны внутренних преступных элементов и внешних врагов – таковы функции государства, гаранта нормальной

работы рыночной экономики... Индивид интегрируется, как умеет, самостоятельно в систему кооперации. Рынок показывает ему, как лучше обустроить себя и других. Только рынок в состоянии упорядочить всю социальную систему, сообщить ей смысл и значение, поэтому роль рынка наиважнейшая.

Рынок... это процесс взаимодействия и кооперации различных индивидов, соединённых системой разделения труда... Рыночный процесс есть адаптация индивидуальных поступков к требованиям взаимной кооперации. Цены указывают производителям, что, как и в каком количестве следует производить. Рынок есть фокус, в котором пересекаются и отражаются виды активности; из этого центра они распространяются дальше...

Направление экономических акций в условиях рынка является задачей предпринимателей. За ними остаётся и функция производственного контроля. Они стоят у штурвала и управляют кораблем. Поверхностному наблюдателю кажется, что именно они занимают ключевые позиции. Однако это не так: сами предприниматели, безусловно, подчиняются командам капитана, и этот капитан – потребитель. Устанавливают, что именно должно быть произведено, не предприниматели, капиталисты, землевладельцы, а потребители. Если коммерсант не подчиняется строгим порядкам, выраженным в структуре рыночных цен, то его ждут сначала убытки, а затем банкротство. Его просто вытесняют другие агенты, те, кто лучше способен удовлетворить спрос потребителей...

Именно потребители способны сделать богатого бедным, а бедного – богатым. Только они с точностью определяют количество и качество, а также сам вид продукции. Беспристрастные эгоисты, они состоят из капризов и фантазий, изменчивых и непредсказуемых. Помимо собственного удовлетворения, они ничего не желают знать. Не имеют значения ни былые заслуги, ни преданные интересы.

(Л. Мизес)

Укажите любые три рассмотренные автором характерные черты рыночной экономики.

Какие функции государства назвал автор (приведите соответствующее положение текста)? Укажите любые две другие функции государства в условиях рынка.

Используя текст, обществоведческие знания и факты общественной жизни, объясните и проиллюстрируйте двумя примерами мысль автора о том, что рынок направляет активность людей в такое русло, где они больше всего соответствуют потребностям окружающих.

Как автор определяет функцию предпринимателя в рыночной экономике? Используя обществоведческие знания, приведите любые три способа воздействия предпринимателя на потребительский спрос.

Современная внешняя среда формирует нестабильные условия для долгосрочной устойчивости и развития бизнеса и характеризуется такими особенностями, как непрерывное усиление конкуренции, динамичное насыщение товарного предложения, трансформация «рынка продавца» в «рынок покупателя», ... сложность и многоаспектность внешнего окружения. В такой ситуации бизнесу становится всё сложнее гибко реагировать на эти быстроизменяющиеся условия внешней среды. Адаптация к данным изменениям крупных корпораций, характеризующихся сложностью организационной структуры, многоуровневостью менеджмента, бюрократизированностью процесса принятия решений и негибкостью многочисленных взаимосвязанных бизнес-процессов, выглядит ещё более сложноразрешимой задачей.

Это заставляет активно искать механизмы и инструменты адаптации к вызовам внешнего окружения, использование которых позволит сохранить устойчивость корпорации и преумножить финансовые результаты деятельности в долгосрочной

перспективе.

В таких условиях выживут и займут прочные и лидирующие позиции только те компании, которые научатся эффективно работать в предлагаемых обстоятельствах, найдут способ сделать свой товар или услугу лучшим выбором своих клиентов. В данной ситуации главный приоритет управленческой деятельности всей корпорации логично определить как удовлетворение и предвосхищение потребностей клиентов на всех уровнях менеджмента.

Однако на практике из-за многообразной текущей деятельности корпорации многие руководители различных подразделений забывают, что именно клиент является центральной фигурой обмена и главным источником притока прибыли в организацию, а результирующая цель работы всех функциональных подразделений корпорации заключается в формировании потребительской ценности...

Эта простая взаимосвязь способствует формированию понимания бизнесменов и экспертов того, что главным залогом эффективного долгосрочного развития фирмы, корпорации является выстраивание долгосрочных партнёрских взаимоотношений с клиентами...

Многие компании, которые разделяют идею клиентоориентированности, больше называют себя таковыми или стараются таковыми казаться...

(Г.А. Резник, О.В. Яшина)

Какие черты крупной корпорации перечислены в тексте? Назовите любые три черты. Для чего, по мнению авторов, осуществляется активный поиск новых механизмов и инструментов адаптации к вызовам внешнего окружения?

Как в тексте сформулирован главный приоритет управленческой деятельности корпорации? Какие трудности, связанные с реализацией идеи клиентоориентированности, отмечают авторы? Назовите две трудности.

Авторы пишут о необходимости выстраивания долгосрочных партнёрских отношений с клиентами. Почему это важно? (Дайте пояснение.) Опираясь на обществоведческие знания и личный социальный опыт, укажите два способа закрепления подобных отношений, превращения их в долгосрочные.

Авторы приводят характеристики современной внешней среды развития бизнеса. Назовите и кратко поясните любые три характеристики.