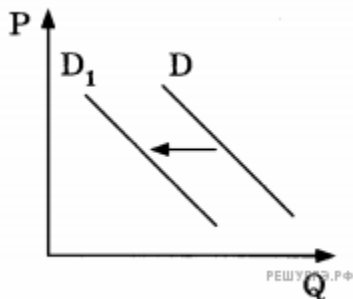


СПРОС И ПРЕДЛОЖЕНИЕ

Задание 1.

На графике отражена ситуация на рынке зарубежных кондиционеров: линия спроса D переместилась в новое положение — D_1 (P — цена товара, Q — количество товара). Какие из перечисленных факторов могут вызвать такое изменение? Запишите цифры, под которыми они указаны.

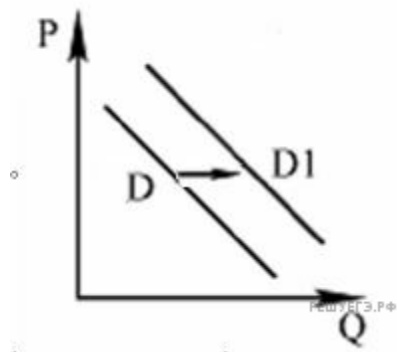


- 1) рост доходов населения
- 2) Резкое похолодание в регионе
- 3) введение налога на продажи бытовой техники
- 4) установление аномально жаркой для региона погоды
- 5) Удешевление отечественных кондиционеров

Задание 2.

На рисунке отражено изменение спроса на парусные яхты на соответствующем рынке: линия спроса D переместилась в новое положение — D_1 . (P — цена; Q — количество.)

Какие из перечисленных факторов могут вызвать такое изменение? Запишите цифры, под которыми они указаны.

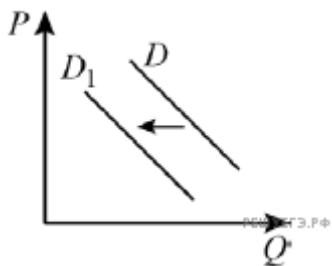


- 1) серия несчастных случаев с парусными яхтами
- 2) снижение издержек на производство яхт
- 3) увеличение количества производителей яхт
- 4) проведение удачной рекламной кампании
- 5) появление моды на моторные яхты

Ответ:

Задание 3.

На графике изображено изменение спроса на мягкие детские игрушки из искусственного меха: кривая спроса переместилась из положения D в положение D_1 . (На графике P — цена товара; Q — количество товара.)



Как изменилась равновесная цена? Что могло вызвать изменение? Укажите любое одно обстоятельство (фактор) и объясните его влияние на спрос. Как изменятся спрос и равновесная цена на данном рынке, если популярные блогеры начнут в своих трансляциях все чаще показывать игрушки из новой коллекции? при прочих равных условиях?

Задание 4.

Назовите три неценовых фактора спроса и проиллюстрируйте каждый из них примером.