


**Задания**  
(Выполни разными цветами)

1. Располагался древний город Дели.
2. Располагался древний город Тир, Библ, Сидон.
3. Располагался древний город Афины, Спарта.
4. Располагался древний город Мемфис
5. В котором располагался древний город Пекин.
6. Расположено государство, в котором правил Дарий Первый.

Заштрихуйте на контурной карте один четырёхугольник, образованный градусной сеткой (параллелями и меридианами), в котором:



Объясните, как природно-климатические условия повлияли на жителей полуострова, на котором расположен древний город Афины.



**Задания**


(Выполни разными цветами)

1. Располагался древний город Дели.
2. Располагались древний город Тир, Библ, Сидон.
3. Располагались древний город Афины, Спарта.
4. Располагался древний город Мемфис.
5. В котором располагался древний город Пекин.
6. Расположено государство, в котором правил Дарий Первый.

Заштрихуйте на контурной карте один четырёхугольник, образованный градусной сеткой (параллелями и меридианами), в котором:




Объясните, как природно-климатические условия повлияли на жителей полуострова, на котором расположен древний город Афины.





РАБОТА С  
КАРТОЙ



РАБОТА С  
КАРТОЙ

